

8.ÜNİTE




TYT En Temel Düzey Matematik Soru Bankası

Periyodik Problemler



HÜSEYİN KAYA




BÖLME-BÖLÜNEBİLME-EBOB-EKOK

PERİYODİK PROBLEMLER



Örnek:



Yukarıdaki ışıklı tabelada harfler U harfinden başlayıp ok yönünde sıra ile yanıp sönüyor.

Buna göre 103. sırada hangi harf yanıp söner?




Örnek:

■	□	■	□	■	□
□	■	□	■	□	■
■	■	■	■	■	■
■	□	■	□	■	□

Yukarıdaki şekilde 120 tane siyah boyalı kare varsa kaç tane beyaz boyalı kare vardır?



Örnek:



Yukarıdaki şekiller aynı sırada şekildeki gibi tekrar etmektedir.

Buna göre 126. sırada hangi şekil vardır?



UZMANLAR
YAYINLARI

Örnek:

5,34217 devirli sayısının açılımında virgülden sonra baştan 107. rakam kaç-
tır?




Örnek:

Bugün günlerden pazar ise, 134 gün sonra hangi gün olur?

UZMANLAR
YAYINLARI



Örnek:



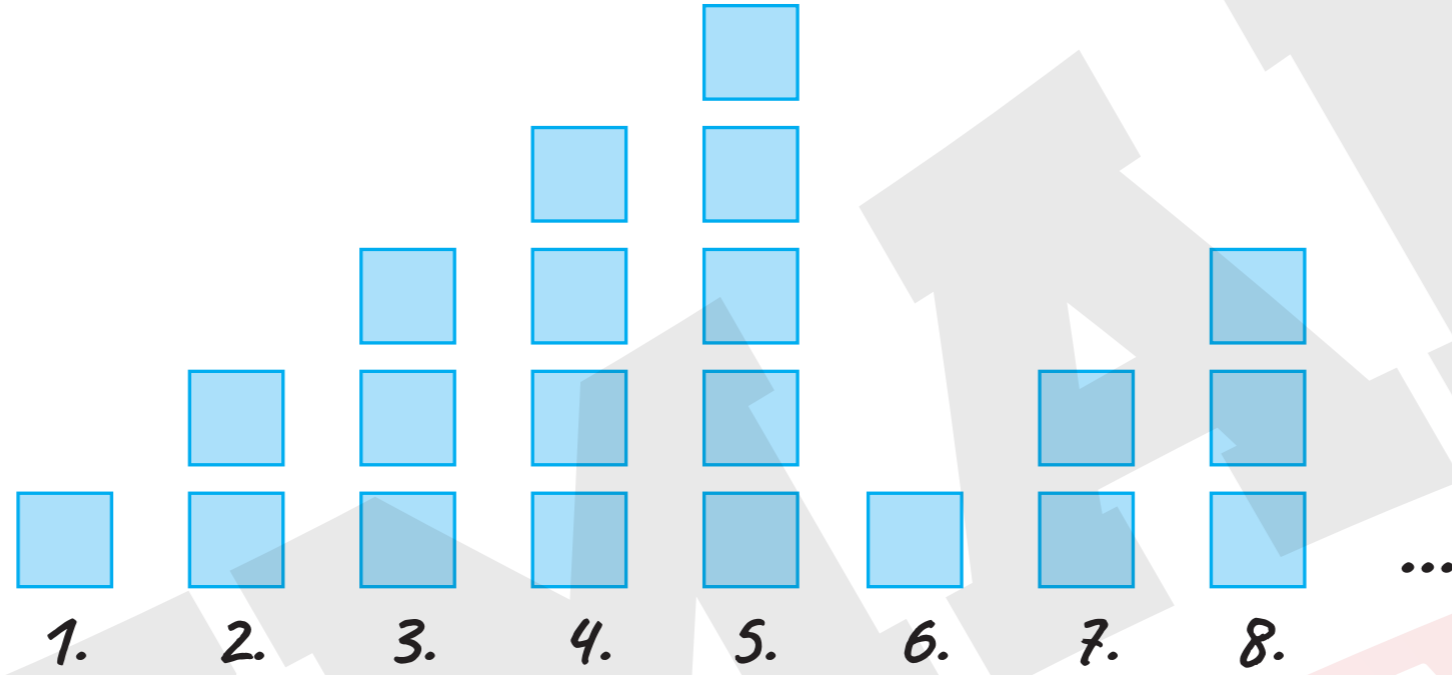
Yukarıdaki şekiller belirli bir kurala göre aynı sırada tekrar etmektedir.

Buna göre baştan 175. şekil hangisidir?




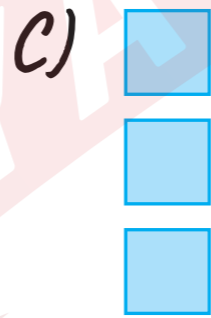
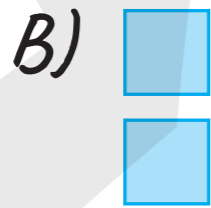
YAYINLARI

Örnek:



Yukarıdaki şekilde kareler belirli bir kurala göre gitmektedir.

Buna göre, 143. sıranın görünüşü aşağıdakilerden hangisidir?



Örnek:



Yukarıda verilen saatten 140 saat sonra saat kaçı gösterir?

A) 11.00

B) 12.00

C) 01.00

D) 02.00

E) 10.00



Örnek:

Ömer Bey, yukarıda verilen tarih ve saatte evden çıkarak tatile gitmiştir.

Tatilden 215 saat sonra eve döndüğünde tarih gün ve saat aşağıdakilerden hangisidir? (1 gün = 24 saat)

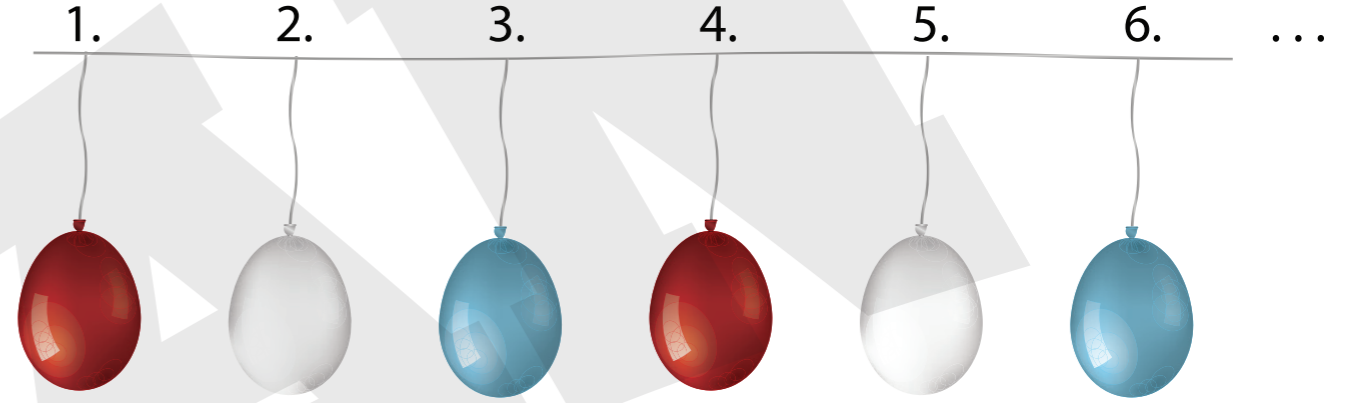
- A) 25 Nisan Salı - 09.00
- B) 24 Nisan Pazartesi - 08.00
- C) 25 Nisan Salı - 08.00
- D) 24 Nisan Pazartesi - 11.00
- E) 24 Nisan Pazartesi - 09.00



Örnek:

Yanda bir sınıfta yapılan balon süslemesinin başlangıcı veriliyor. Balonlar aynı renk sırasında tekrar etmektedir.

Buna göre, 32., 43. ve 51. sıradaki balonlar ve renkleri sırası ile aşağıdakilerden hangisinde doğru verilmiştir? (Balonlar yeterli sayıdadır)




A)



B)



C)



D)



E)

