

7.ÜNİTE


U

TYT Orta ve İleri Düzey Coğrafya Soru Bankası

İnsan Doğa İlişkisi



ERTAN VARLIK



İNSAN - DOĐA İLİŐKİSİ

İNSAN DOĐA İLİŐKİSİ

İNSANLARIN DOĐAL ORTAMI KULLANMA ŐEKİLLERİ

DOĐAL ORTAMDA İNSAN ETKİSİYLE MEYDANA GELEN DEĐİŐİMLER VE SONUÇLARI

HİDROSFER VE İNSAN ETKİSİ

LİTOSFER VE İNSAN ETKİSİ

BİYOSFER VE İNSAN




İNSANLARIN DOĞAL ORTAMI KULLANMA ŞEKİLLERİ

- Doğal çevre, insanlara ihtiyaçlarını karşılamaları ve yaşamlarını sürdürebilmeleri için pek çok imkân sunmaktadır. İnsanlar istek ve ihtiyaçları ile doğal çevrenin özellikleri doğrultusunda bu imkânlardan yararlanarak bazı faaliyetlerde bulunur. Bu faaliyetler sırasında doğayı etkiler ve şekillendirir.
- Günümüzde insanlar doğal koşulların elverişli olmadığı durumlarda dahi doğal ortamdan faydalanabilmektedir.



ORDU - GİRESUN HAVA LİMANI

KARADENİZ SAHİL YOLU



MARMARAY



AVRASYA TÜNELİ



 ABONE OL PALMIYE ADALARI/ DUBAİ



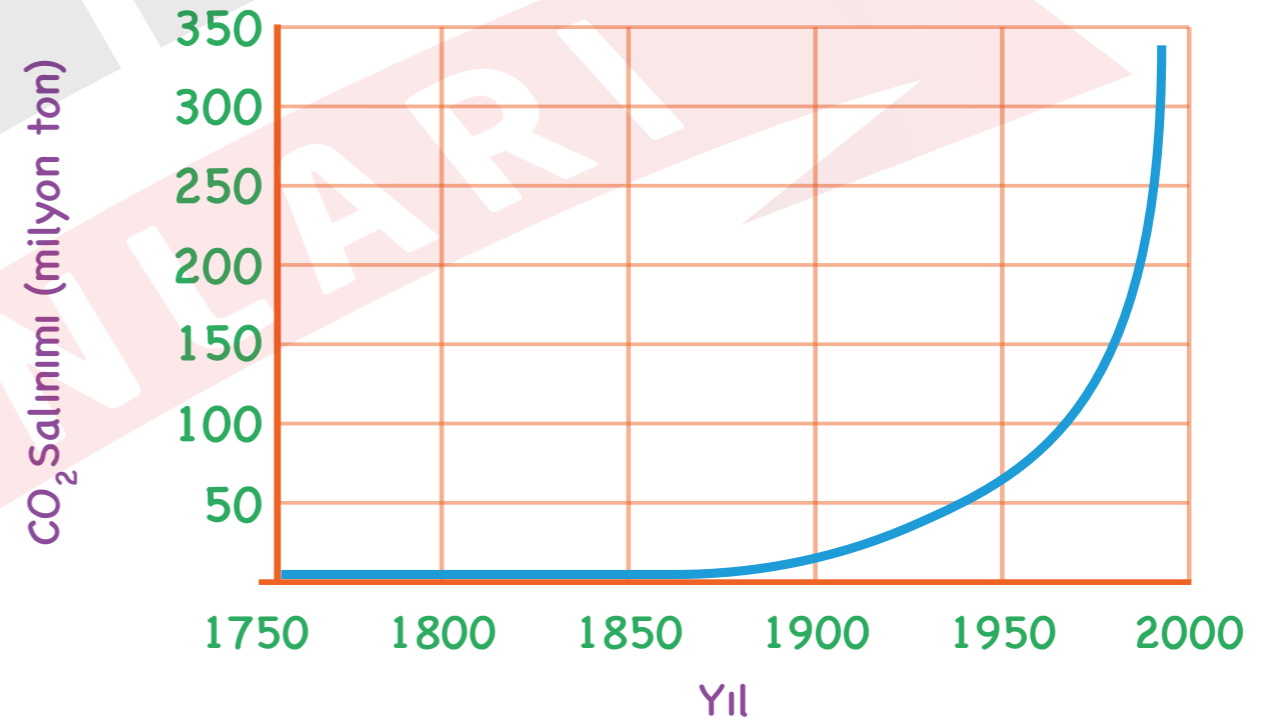
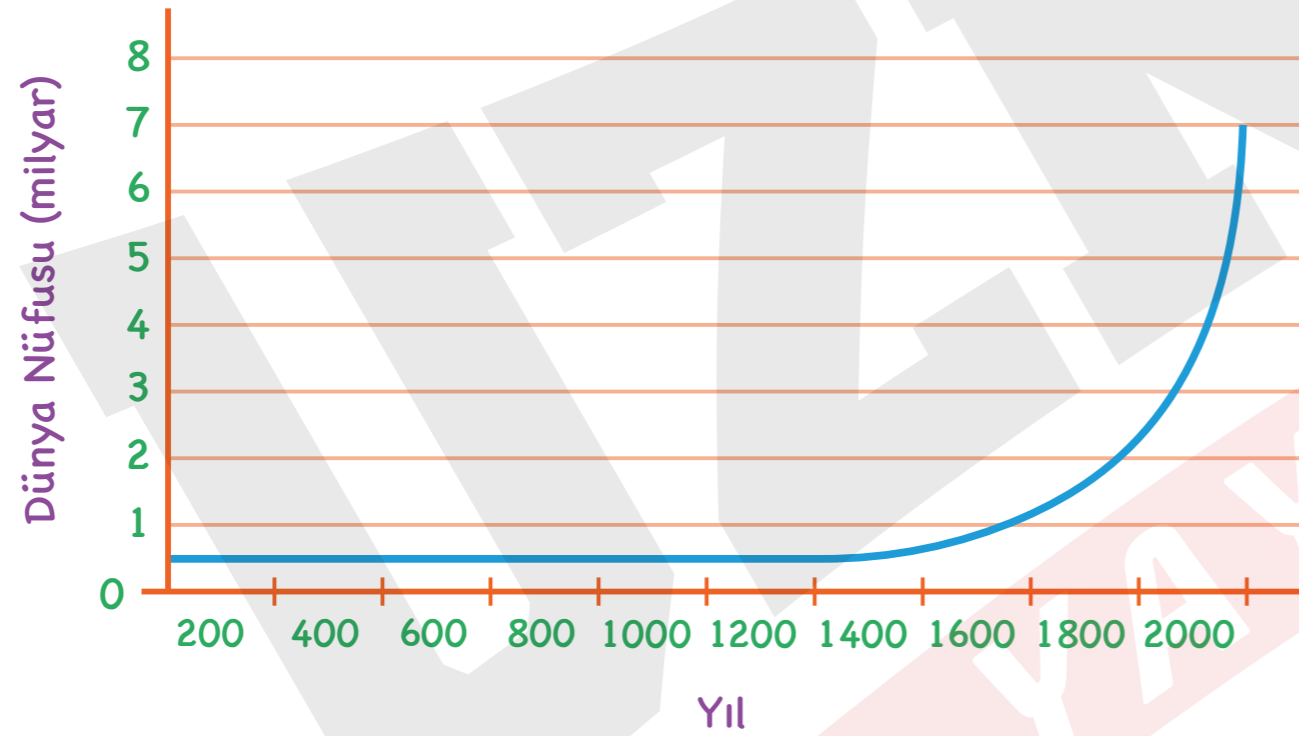
MALTEPE SAHİL PARKI/ İSTANBUL

DOĐAL ORTAMDA İNSAN ETKİSİYLE MEYDANA GELEN DEĐİŐİŐİMLER VE SONUÇLARI

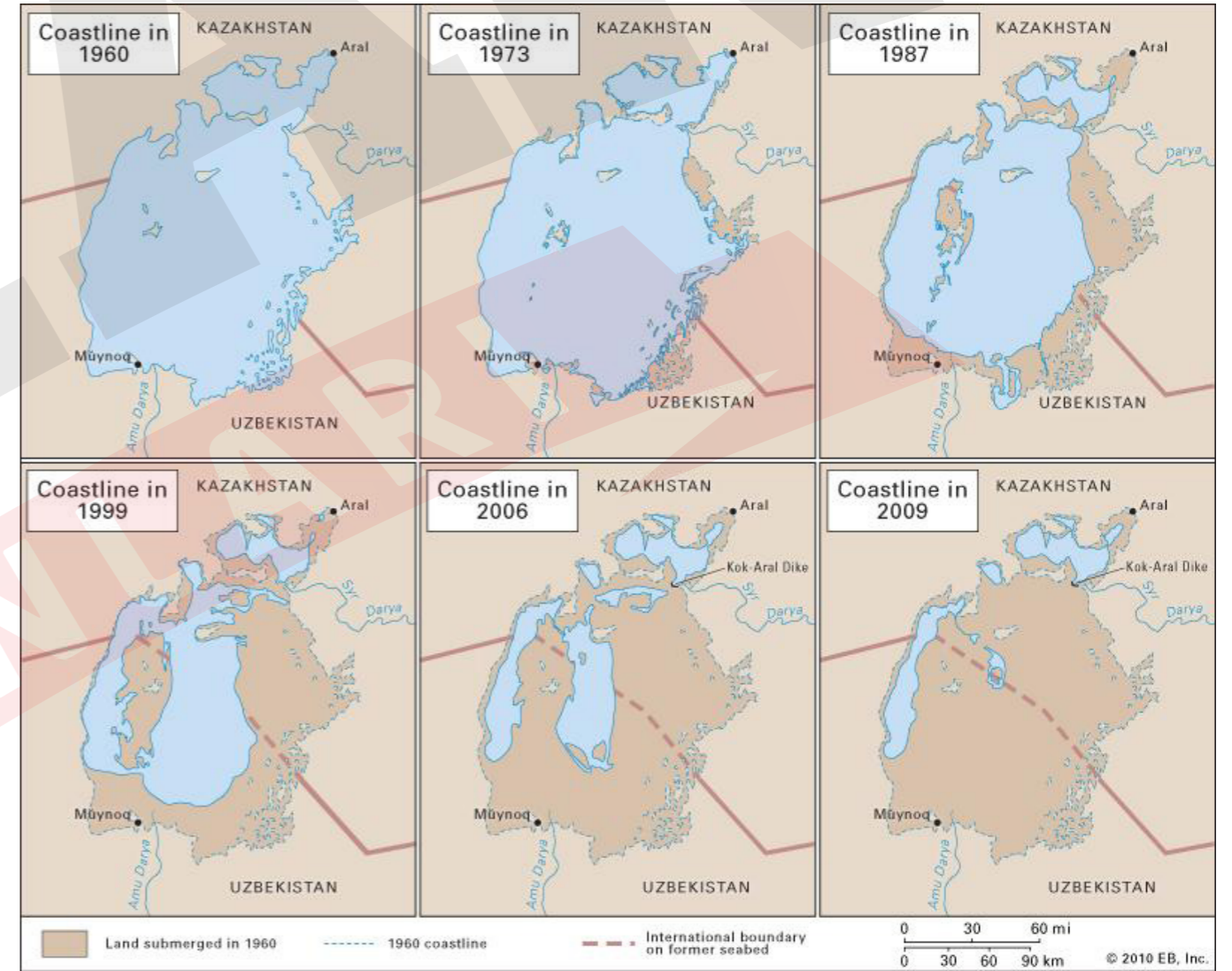
- GÜNÜMÜZDEN YAKLAŐIK 10.000 YIL ÖNCE GERÇEKLEŐEN TARIM DEVRİMİ İLE BİRLİKTE İNSANLARIN DOĐAL ORTAM ÜZERİNDEKİ ETKİLERİ GEÇMİŐE NAZARAN BÜYÜK ORANDA ARTMIŐTIR.
- XVIII. YÜZYILDA BAŐLAYAN SANAYİ DEVRİMİ, İNSANLARIN DOĐAL ORTAMI DEĐİŐİRTMELE- RİNDE TARIM DEVRİMİ'NDEN SONRA İKİNCİ DÖNÜM NOKTASI OLMUŐTUR. SANAYİ DEVRİMİ İLE BAŐLAYAN BU SÜREÇ SON 200 YILDIR HIZLI BİR ŐEKİLDE DEVAM ETMEKTEDİR.

ATMOSFER VE İNSAN ETKİSİ

- Doğal sistemler için yaşamsal öneme sahip olan atmosfer, hızlı nüfus artışı, kentleşme ve sanayileşme sonucunda kirlenmektedir. Hava kirliliği; atmosferde toz, duman, gaz, su buharı şeklindeki kirleticilerin, insan ve diğer canlılara zarar verecek düzeye erişmesi şeklinde gerçekleşmektedir.



HİDROSFER VE İNSAN ETKİSİ



LİTOSFER VE İNSAN ETKİSİ



BIYOSFER VE İNSAN



İstanbul Ormanlarında Gerileme



BORNEO ADASINDA (MALEZYA) ORMAN TAHRİBİ



Örnek:

İnsanların ihtiyaçları doğrultusunda doğal çevre üzerinde yaptığı önemli değişiklikler 20. ve 21. yüzyıllarda daha da yoğunlaşarak hayalleri zorlayacak boyutlara ulaşmıştır.

Aşağıdakilerden hangisinin bu değişikliklere uygun bir örnek olduğu söylenemez?

- A) Manş tüneli
- B) Palmiye adası
- C) Hollanda polderleri
- D) Norveç fiyortları
- E) CERN atom çarpıştırıcı deneyi

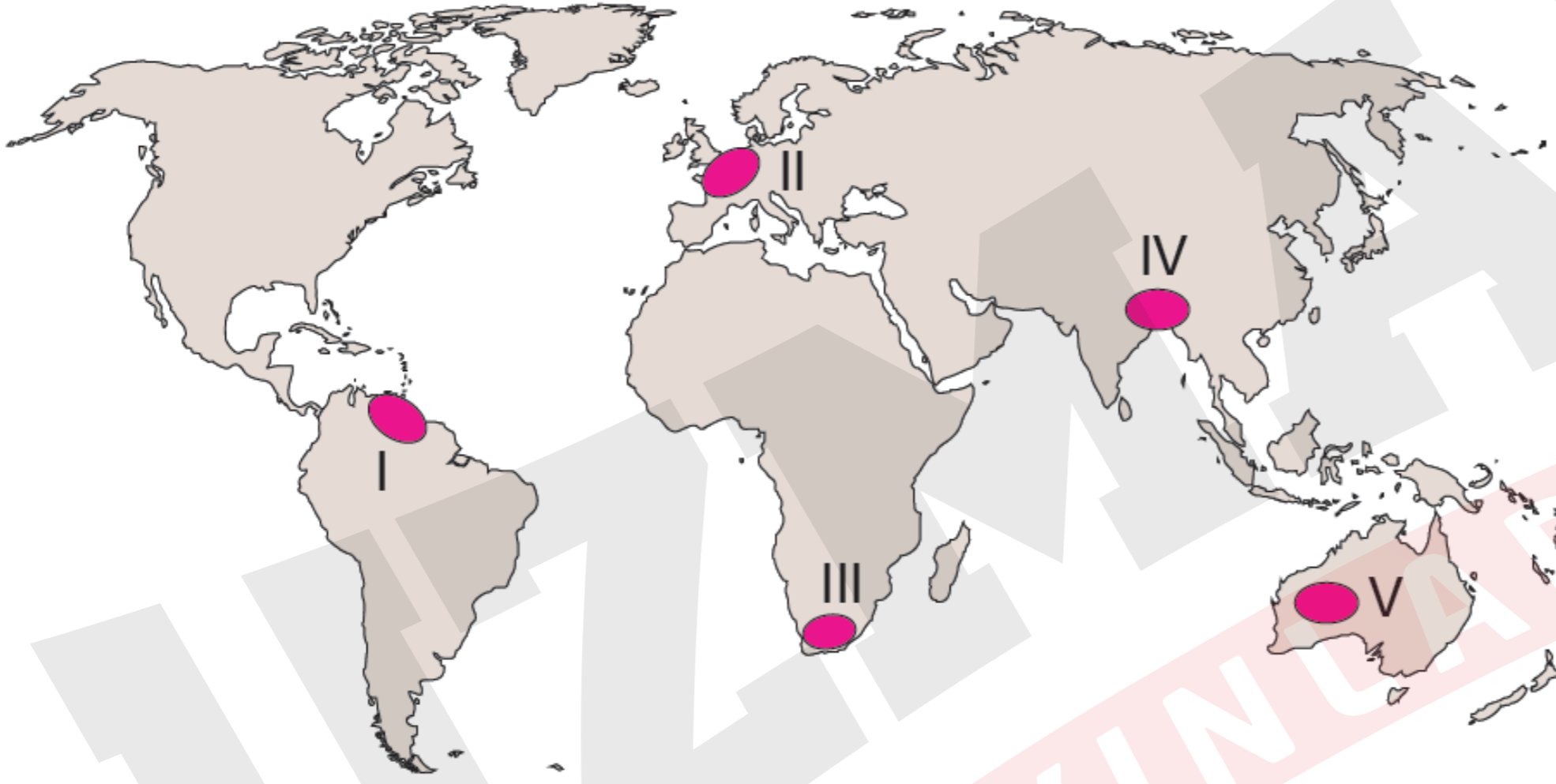
Örnek:

Batman, insanların çevreyi ihtiyaç doğrultusunda deęiřtirmesinin en iyi örneklerinden biridir. 1928'de kurulan İluh köyü, 1948'de burada petrol bulunması nedeniyle önce ilçeye dönüřtürülmüř, 1990 da il olmuřtur.

Ařaęıdakilerden hangisi bu süreçlerde yařanan deęiřimlerden biri olamaz?

- A) Nüfus ve konut sayısının artması
- B) Sanayinin gelişmesi
- C) Eğitim ve saęlık hizmeti için kurumların açılması
- D) Batman Çayı üzerinde taşımacılık faaliyetlerinin artması
- E) Çekim merkezi haline gelen şehirde ekonomik faaliyetlerin çeřitlenmesi

Örnek:



Haritada numaralandırılmış alanların hangisinde doğal çevrenin insanlara sunduğu olanaklar daha sınırlıdır?

- A) I B) II C) III D) IV E) V



Örnek:

- I. İstanbul ve Kocaeli şehirlerinde hizmet veren banliyö trenidir. İstanbul Boğazı'nın altına yapılan tüp geçitle Asya ve Avrupa'yı birleştirir.
- II. İstanbul'un Avrupa ve Asya yakasını İstanbul Boğazı'nın deniz tabanının altından bağlayan ilk karayoludur.
- III. İzmit Körfezin'ndeki Dilovası Dil Burnu ile Altınova Hersek Burnu arasında inşa edilen Türkiye'nin en uzun köprüsüdür.

Yukarıda ulaşım yolları aşağıdakilerden hangisinde doğru olarak eşleştirilmiştir?

- | I | II | III |
|--------------|----------|-----------------|
| A) Marmaray | Avrasya | Osmangazi |
| B) Osmangazi | Avrasya | Yavuz Sultan S. |
| C) Avrasya | Marmaray | Fatih Sultan M. |
| D) Marmaray | Avrasya | Yavuz Sultan S. |
| E) Avrasya | Marmaray | 15 Temmuz Ş. |

