

1.ÜNİTE


U

TYT Orta ve İleri Düzey Coğrafya Soru Bankası

Türkiye'nin Coğrafi Konumu



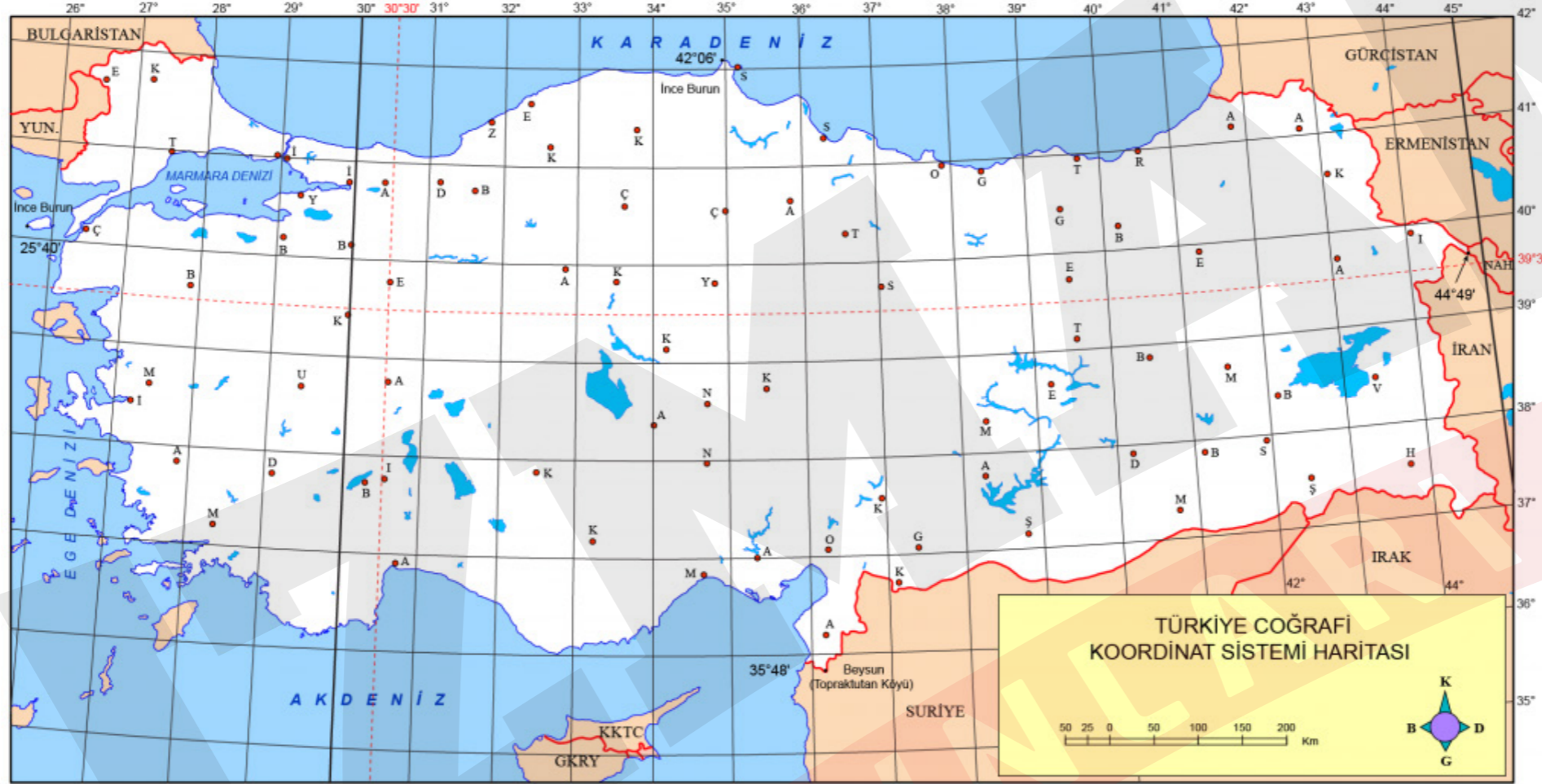
ERTAN VARLIK



TÜRKİYE'NİN COĞRAFI KONUMU



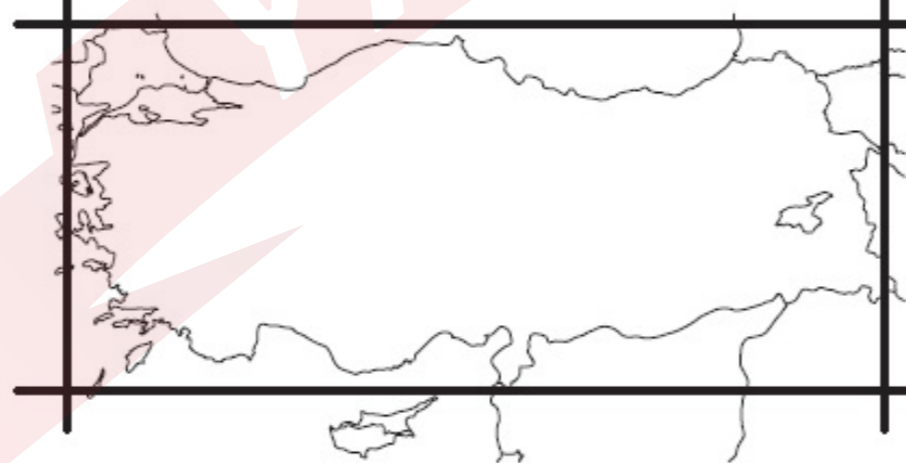
TÜRKİYE'NİN MUTLAK KONUMU



26° Doğu

45° Doğu

42° Kuzey



36° Kuzey



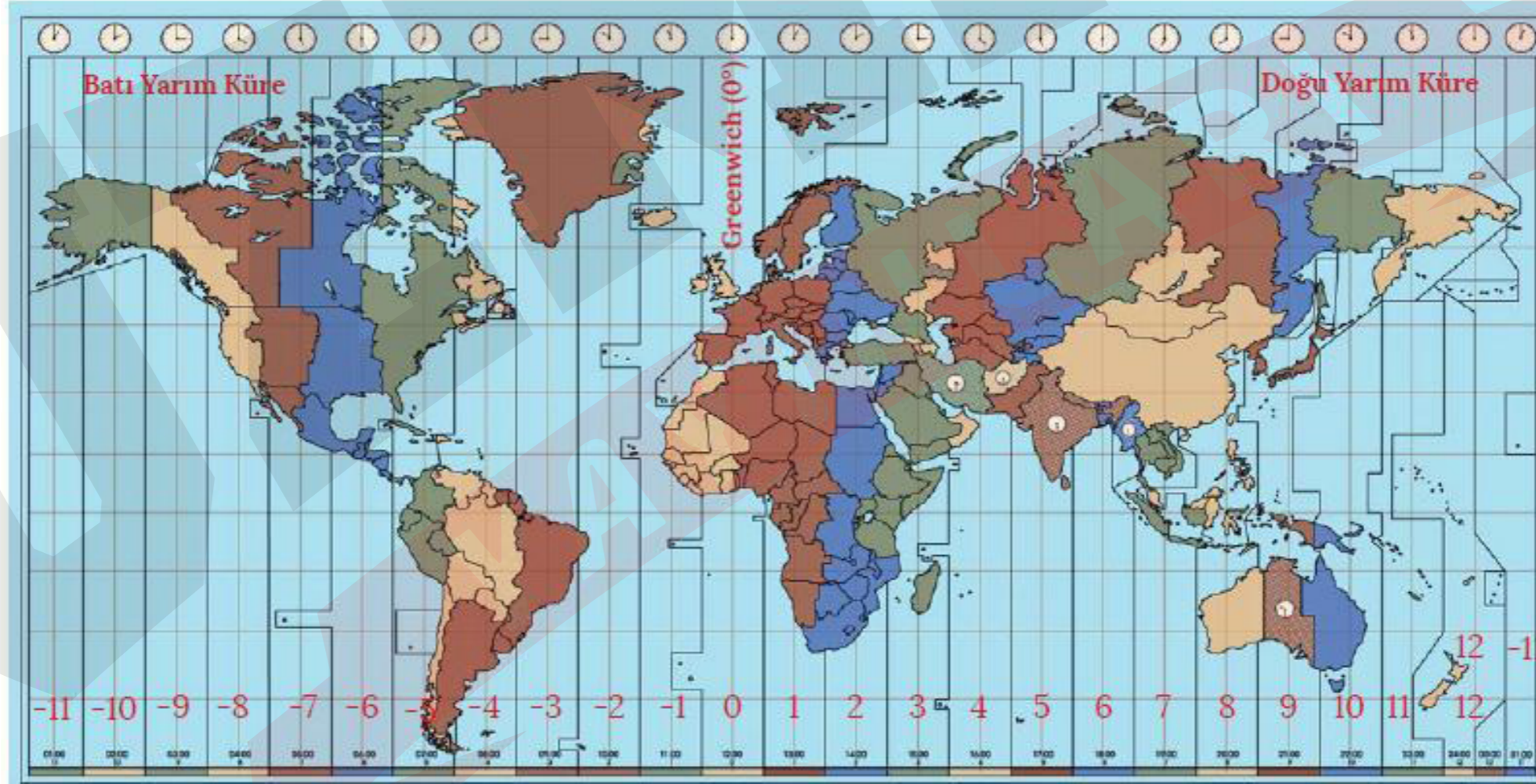
Türkiye 36° - 42° kuzey paralelleri arasında yer alır.

- En kuzeyi ve en güneyi arasındaki kuş uçuşu uzaklık yaklaşık 666 km'dir.
- Kuzey Yarım küre orta kuşağındadır.
- Dört mevsim belirgin olarak yaşanır.
- Güneş ışınları düz bir zemine hiçbir zaman dik açı ile düşmez.
- Güneyden kuzeye doğru gidildikçe sıcaklık genel olarak düşer.
- Güneyden esen rüzgârlar sıcaklığı artırırken kuzeyden esenler düşürür.
- Dağların güney yamaçları baki etkisiyle daha çok ısınır.
- Ilıman iklimler görülür.
- Akdeniz iklim kuşağında yer alır.
- Batı rüzgarlarının etkisindedir.
- Güneş ışınlarını 21 Aralık'ta en dar açıyla, 21 Haziran'da ise dike yakın açı ile alır.
- Güneyden Kuzeye gittikçe gece-gündüz arasındaki süre farkı artar.



Türkiye 26°-45° doğu meridyenleri arasında bulunur.

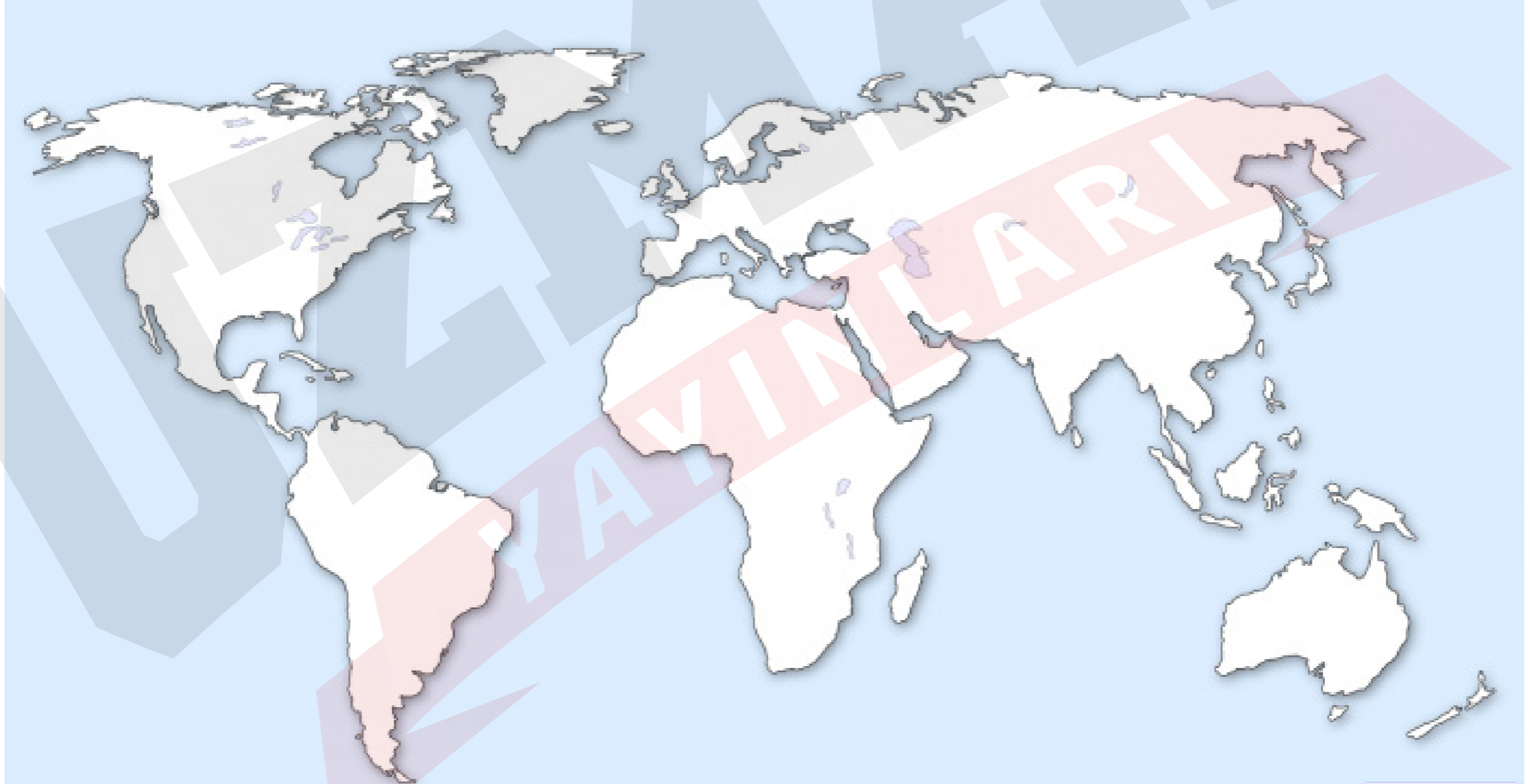
- En doğusu ve en batısı arasındaki zaman farkı 76 dakikadır.
- 2. ve 3. saat dilimleri içinde yer alır.
- Uluslararası 3. saat dilimini kullanır



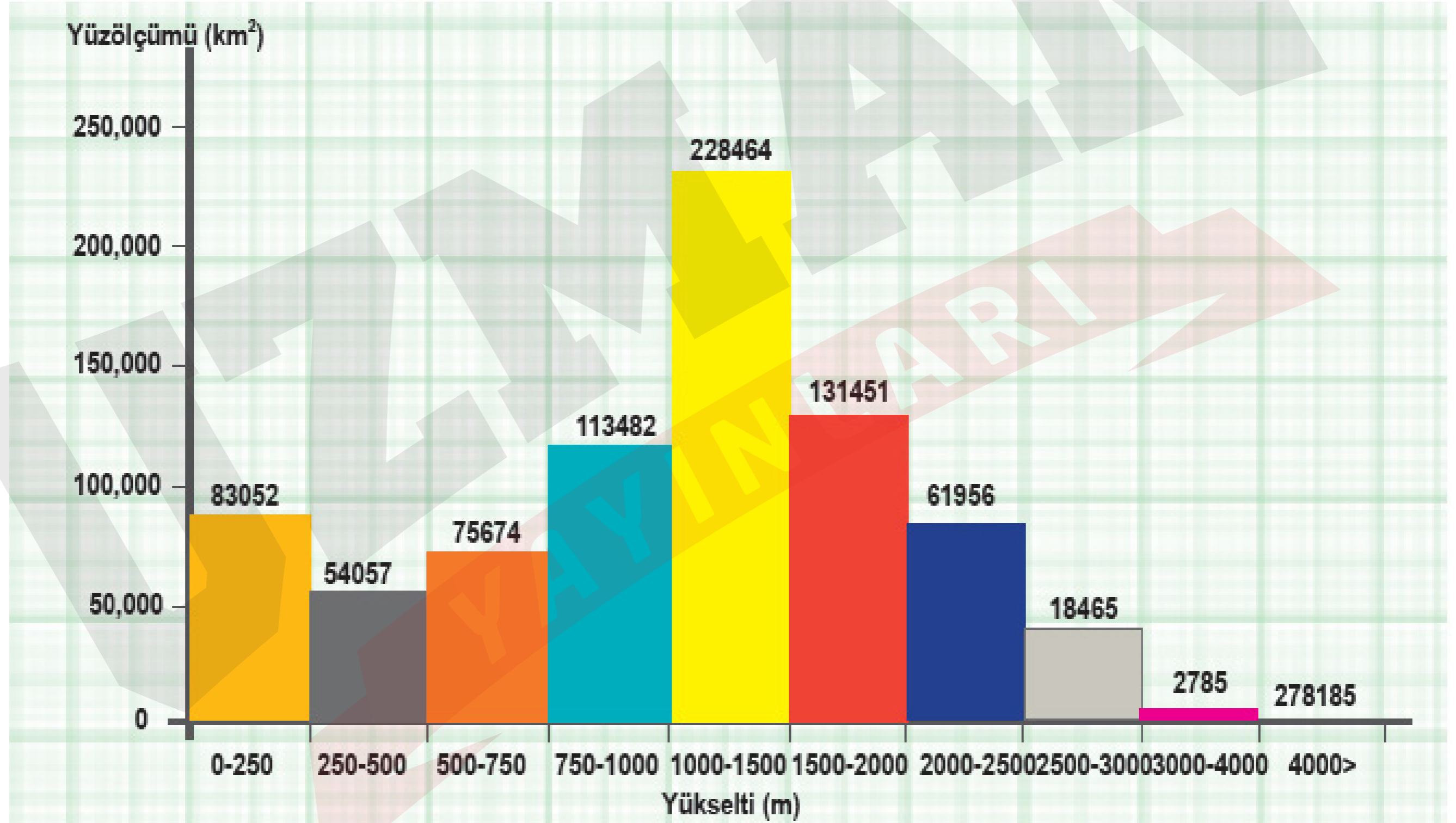
TÜRKİYE'NİN GÖRECELİ KONUMU



- Ülkemizin üç tarafı denizlerle çevrilidir.
- Avrupa ve Asya kıtalarını birbirine bağlayan köprü konumundadır
- Karadeniz'i Akdeniz'e bağlayan İstanbul Boğazı ile Çanakkale Boğazı'na sahiptir.
- Üç kıtanın birbirine yaklaştığı yerde bulunur.



- Yakın bir jeolojik zamanda oluşmuştur.
- Ortalama yükseltisi fazladır (1132 m).



- Dağlar genel olarak doğu-batı doğrultusunda uzanır.
- Yer şekilleri kısa mesafede değişiklik gösterir.
- Farklı iklim özellikleri görülmektedir.



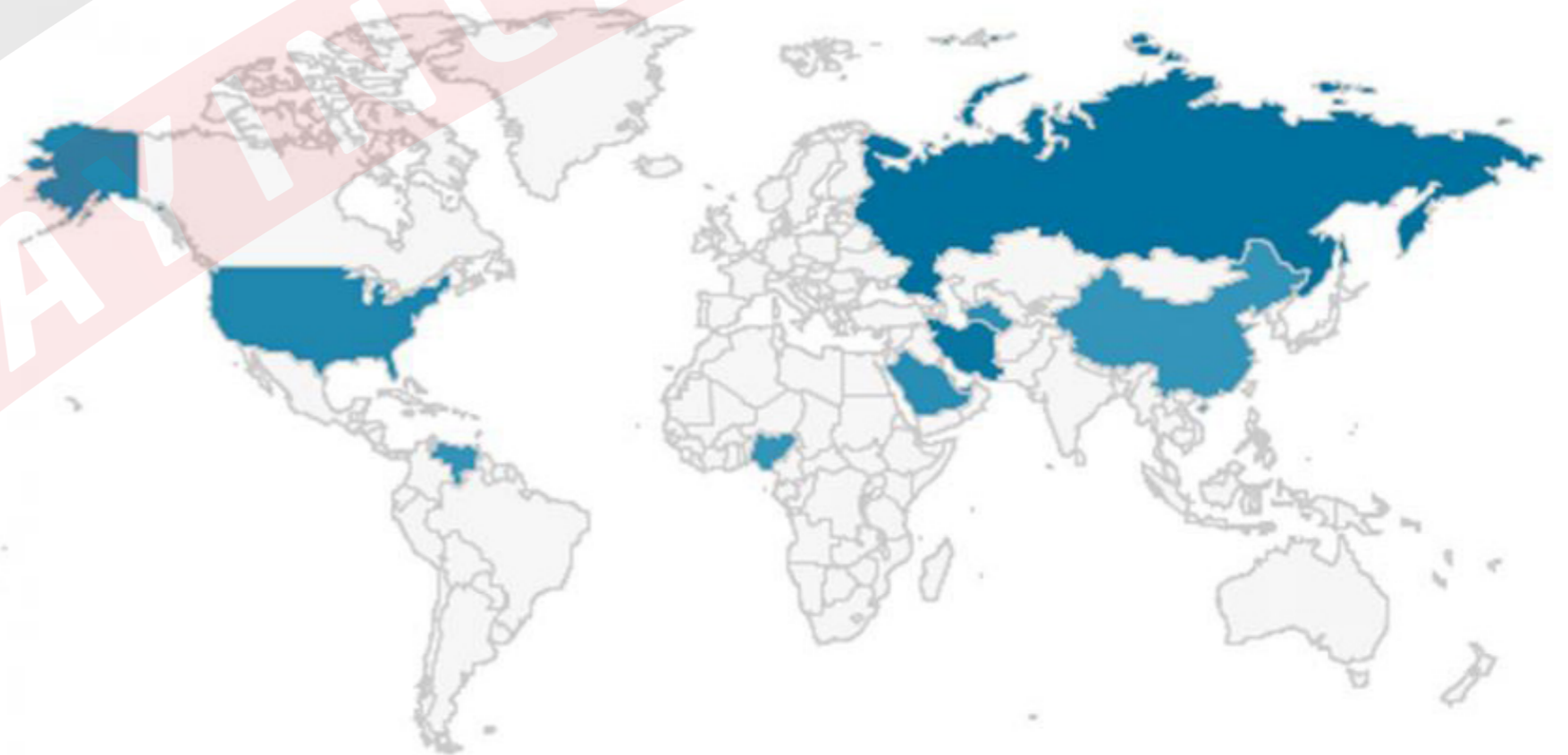
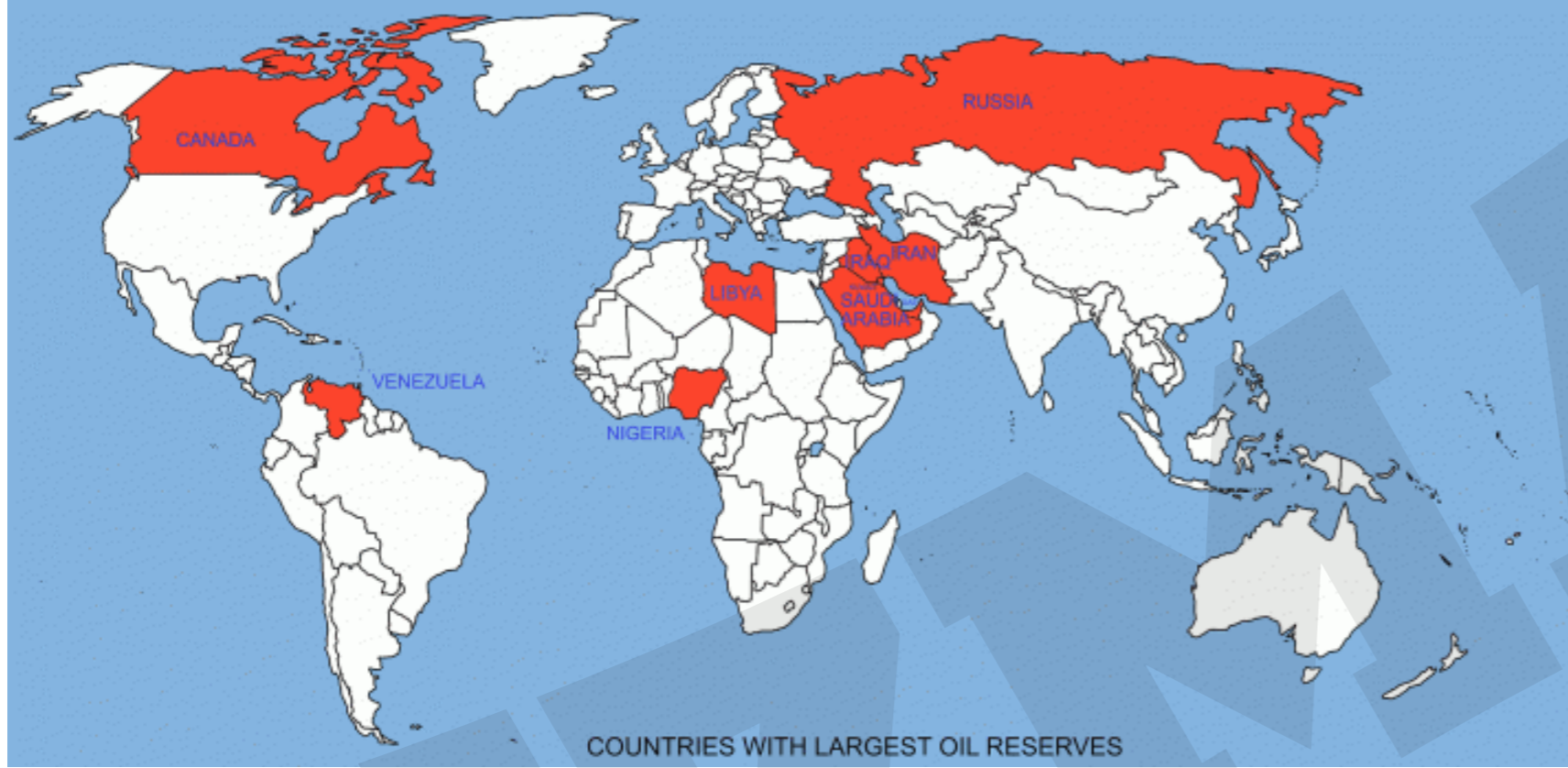
→ Tarım ürünleri çeşitliliği fazladır.



→ Dünyanın doğal, ekonomik, kültürel ve siyasi yönden farklı bölgeleri arasında bulunmaktadır.



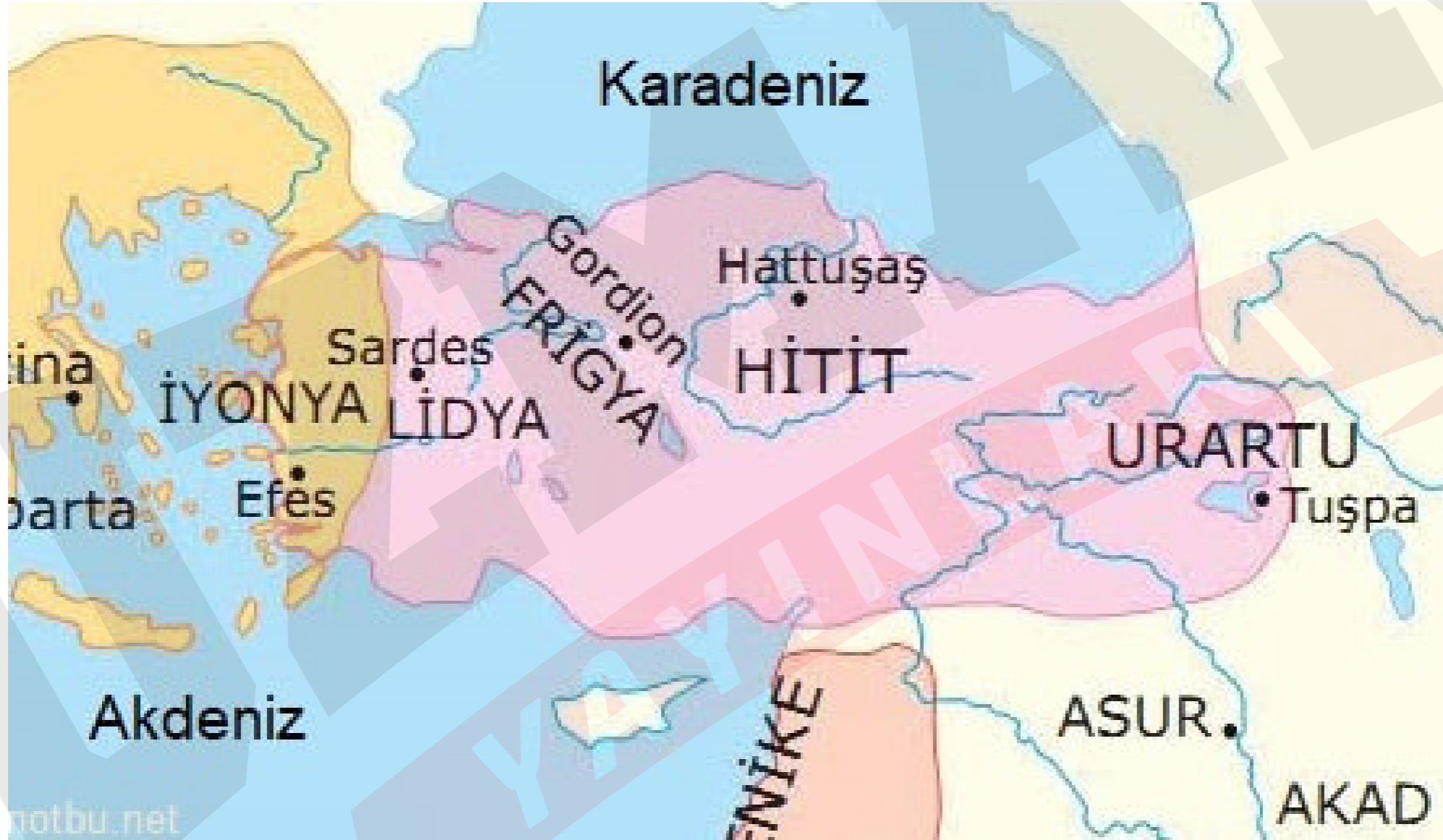
→ Petrol ve doğal gaz yataklarına sahip olan Orta Doğu ve Kafkas ülkelerine yakındır.



- Yer altı kaynak çeşitliliği bakımından zengin bir ülkedir.
- Çevresindeki ülkeler için önemli bir enerji nakil merkezidir.



→ Tarih boyunca farklı medeniyetlere beşiklik etmiştir.



Örnek:

Güneş ışınlarının düşme açısı ekvatorдан kutuplara gidildikçe azalır.

Buna göre, aşağıdakilerden hangisi bu bilgiyle açıklanamaz?

- A) Muğla'nın Samsun'dan sıcak olması
- B) Antalya'da deniz sezonunun Giresun'dan daha uzun olması
- C) Akdeniz'in Karadeniz'den tuzlu olması
- D) Hakkari'de karlı gün sayısının Konya'dan fazla olması
- E) Trabzon'da yıllık sıcaklık ortalamasının İzmir'den düşük olması

Örnek:

Güneş, 21 Mart'ta 45° Doğu meridyenindeki Iğdır'da 4.30'da doğduğuna göre, 30° Doğu meridyenindeki İzmit'te, aynı gün saat kaçta batar?

- A) 17:30 B) 15:30 C) 16:30 D) 5:30 E) 18:00

