


1.ÜNİTE



# TYT Temel ve Orta Düzey Biyoloji Soru Bankası

## Enzimler, ATP, Nükleik Asitler



SEZGİN EROL

# ENZİMLER, ATP, NÜKLEİK ASİTLER

**Enzimler**

**Sıcaklık**

**PH Deęeri**

**SU**

**Aktivatör Maddeler**

**ATP**

**Nükleik Asitler**

**Hormonlar**

**DNA**

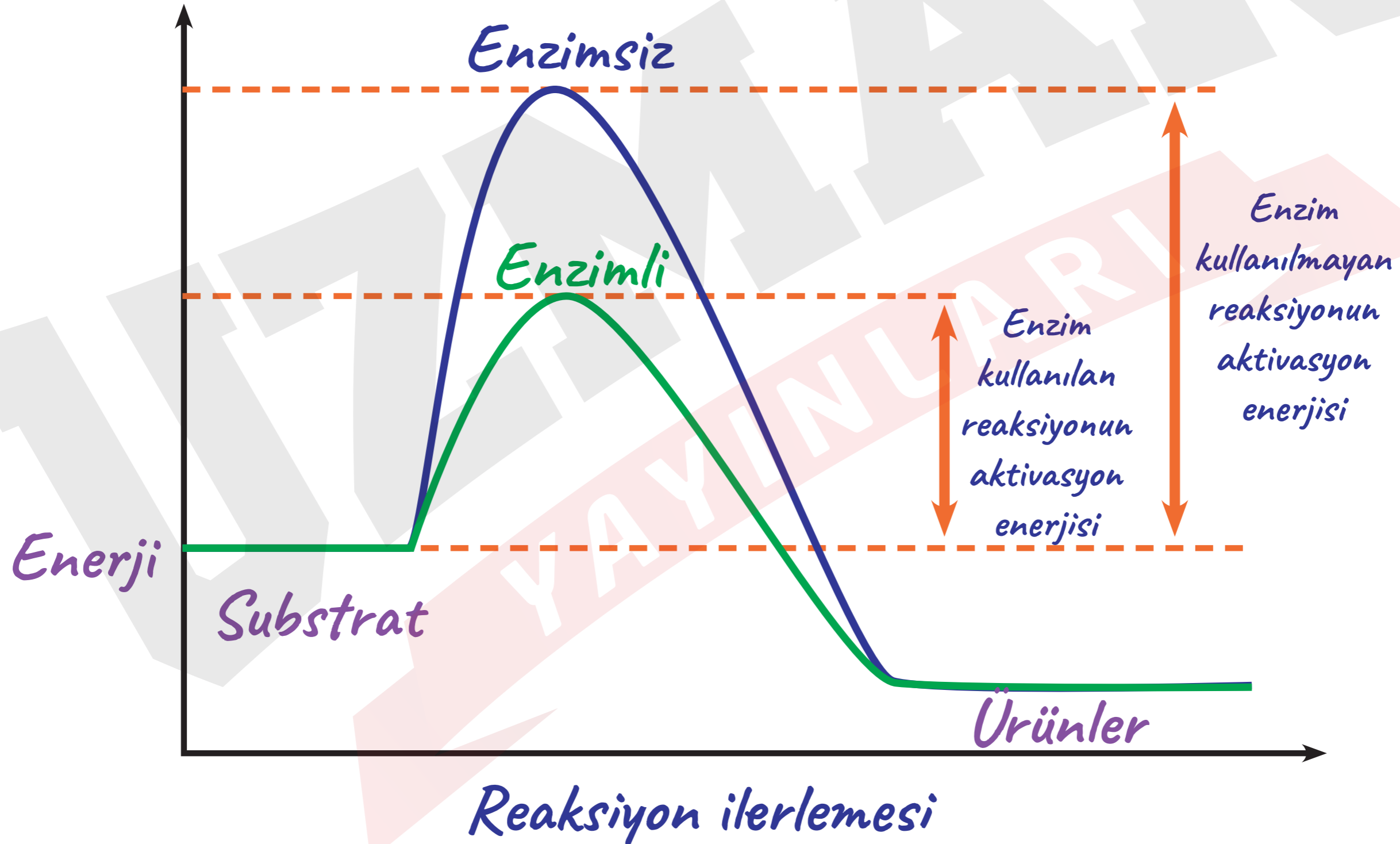
**RNA**

# Enzimler

- Biyokimyasal reaksiyonların başlaması için gerekli olan aktivasyon enerjisini düşürerek reaksiyonların daha kısa sürede ve daha az enerji harcanarak gerçekleşmesini sağlarlar.
- Tepkimeyi hızlandıran ve tepkimeden miktarı etkilenmeden çıktıkları için biyolojik katalizördürler.

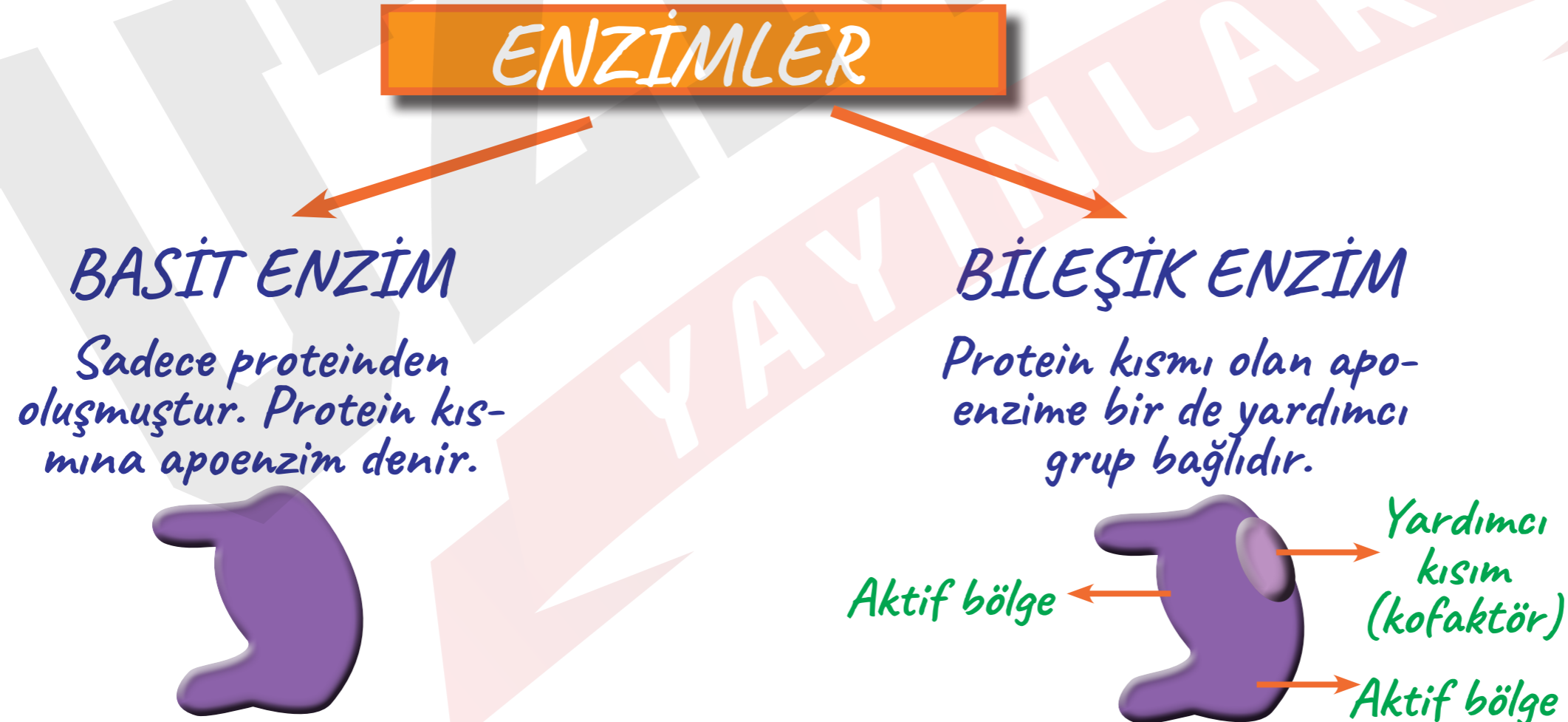
# ! DİKKAT

→ Bir tepkimenin başlayabilmesi için gerekli olan en düşük enerji düzeyine aktivasyon enerjisi denir. Bazı reaksiyonların başlayabilmesi için sadece ısı enerjisi yeterli iken; bazılarında hem ısı hem de ATP gereklidir.



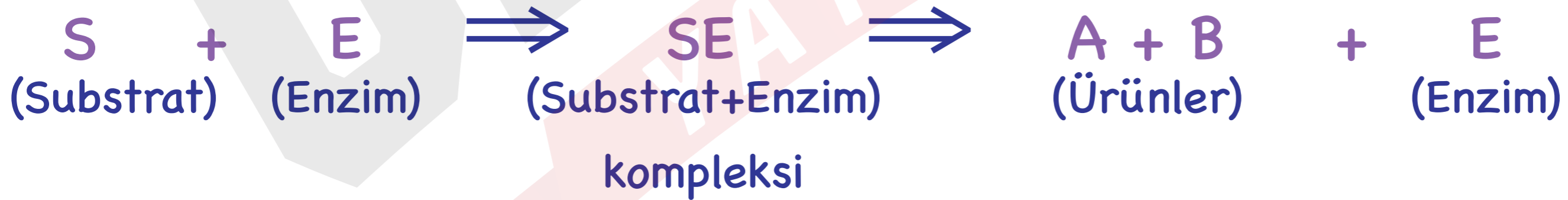
# YAPILARINA GÖRE ENZİM ÇEŞİTLERİ

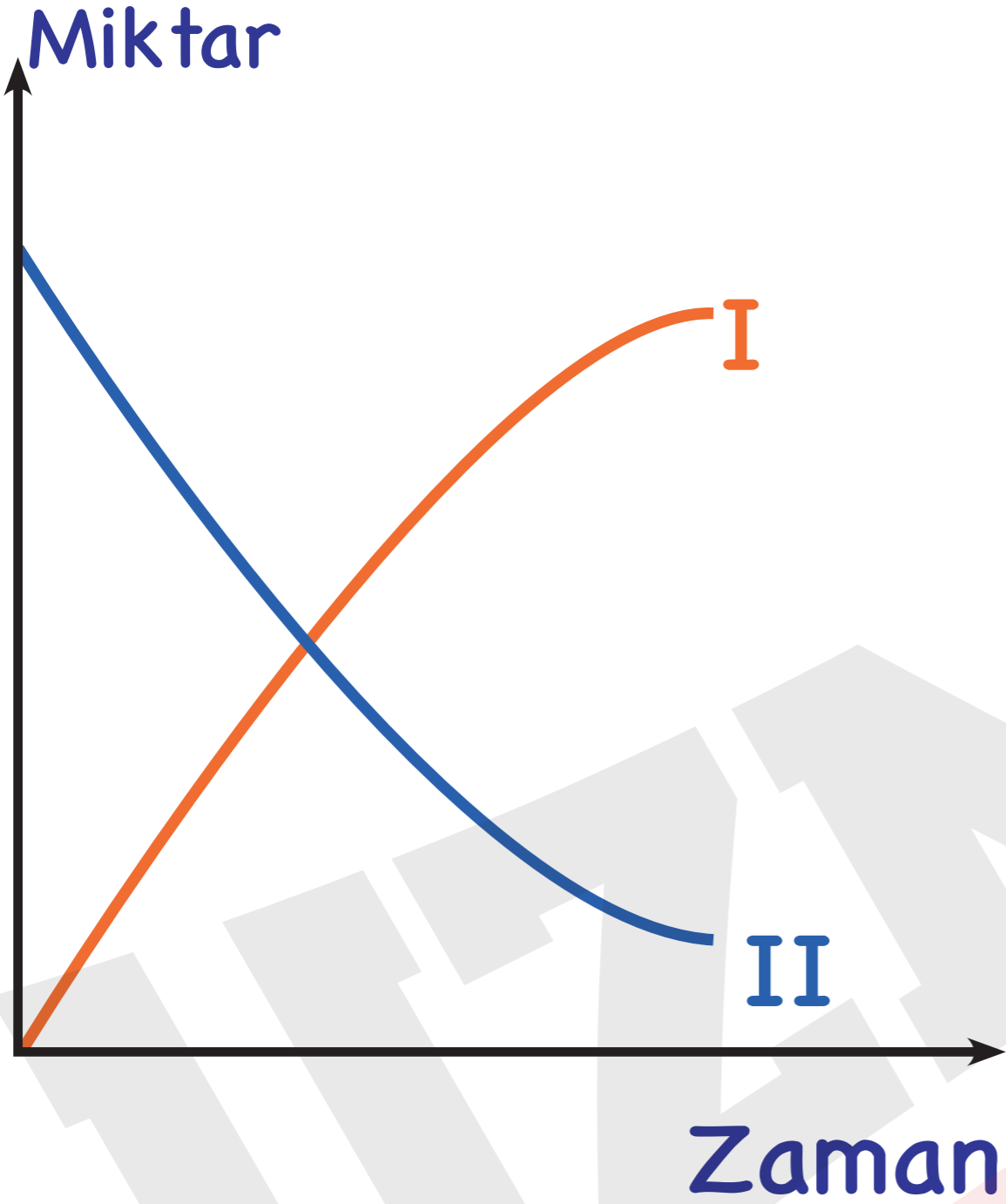
- Bileşik enzimin hangi maddeye etki edeceğini apoenzim kısmı belirler.
- Kofaktör kısmı enzimi aktifleştirir.
- Apenzim, belirli bir koenzim ya da kofaktörle birlikte çalışır. Fakat bir koenzim ve kofaktör, birden fazla apoenzim ile çalışabilir.
- Enzimin substratına geçici olarak bağlandığı ve etki ettiği bölgeye aktif merkez(aktif bölge) denir.



# ENZİMLERİN GENEL ÖZELLİKLERİ

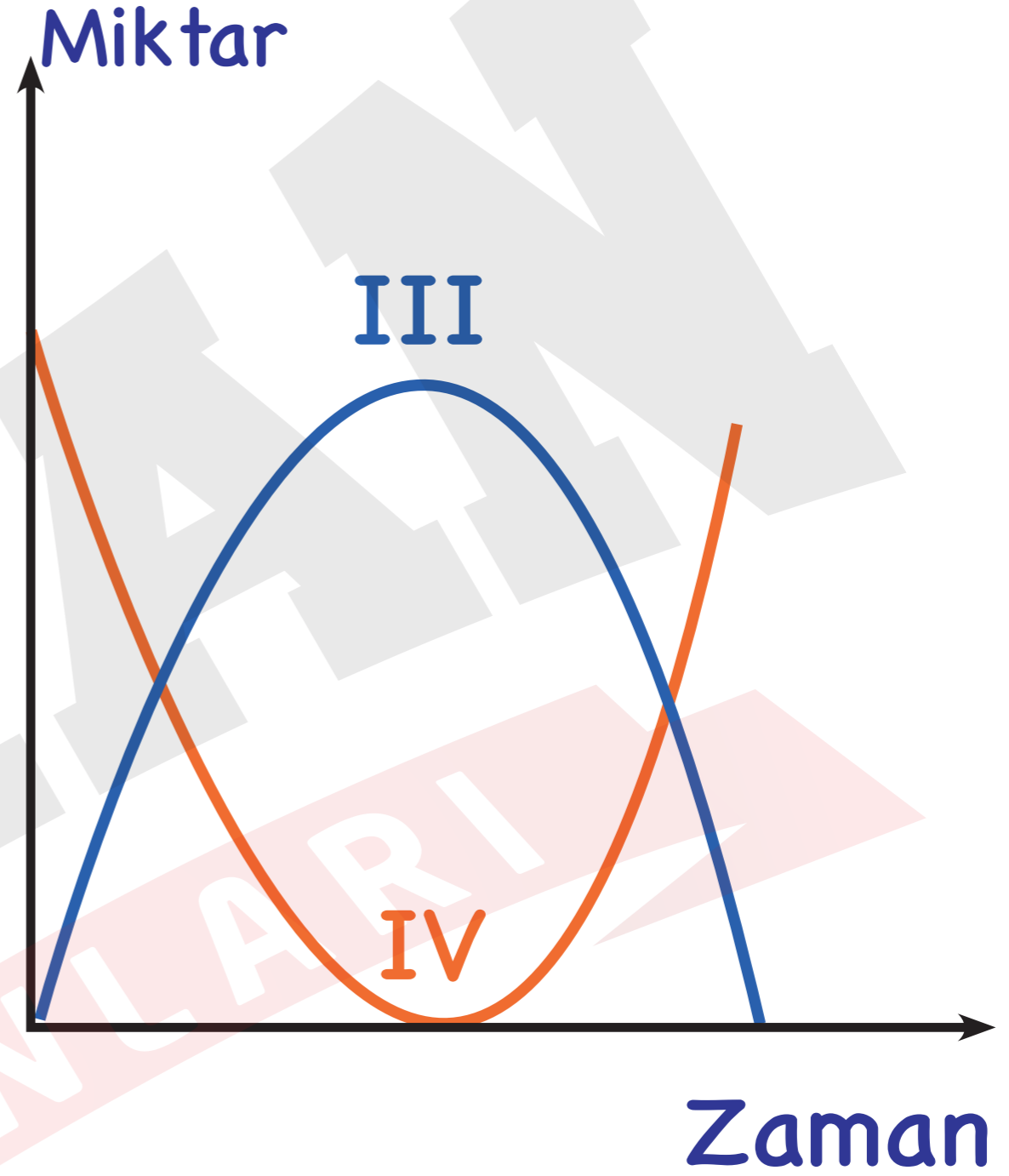
- Enzimler biyolojik katalizördürler. Tekrar tekrar kullanılabilirler.
- Protein yapılı oldukları için yüksek sıcaklıkta yapıları bozulur.
- Enzimlerin etki ettiği maddeye substrat denir.
- Enzim ile substratı arasında anahtar-kilit uyumu vardır.
- Tepkime sırasında enzim substrata geçici olarak aktif merkezi ile bağlanır. Enzim substrat kompleksi oluşur. Enzim etkisiyle substrat ürüne dönüşürken bu arada enzim serbest kalır.





I: Ürün miktarı

II: Substrat miktarı



III: Substrat-enzim  
kompleksi miktarı

IV: Serbest enzim miktarı



→ Enzimler genellikle çift yönlü çalışır.



→ Enzimler hücrede takım hâlinde çalışabilir.

→ Bir enzimin ürünü, başka bir enzimin substratı olabilir.





# ! DİKKAT:

- Enzimler genellikle bir tepkimeye özgüdür.
- Enzimler çok hızlı çalışmaktadır.



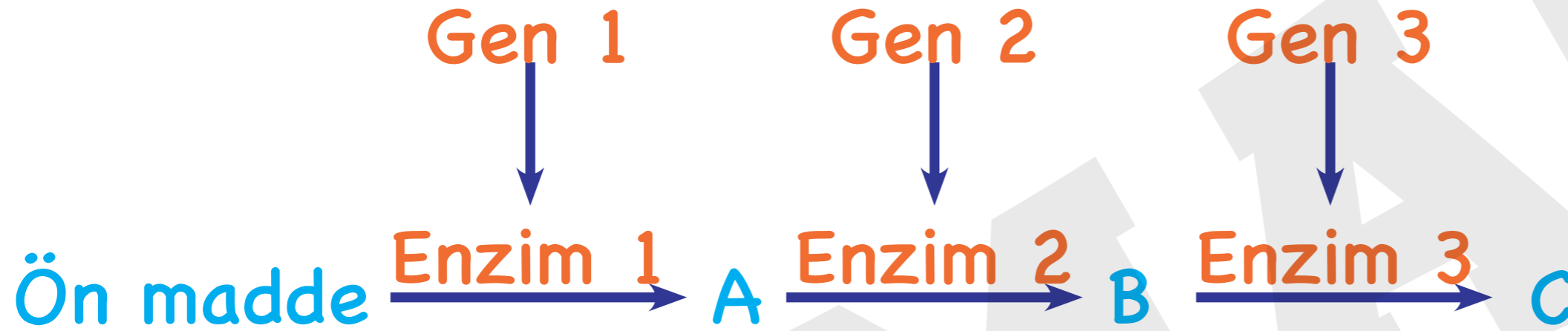
YAYINLARI

- Takım hâlinde iş gören enzimlerin çalışmaları geri besleme (geri bildirim) mekanizması ile düzenlenir. Son ürün miktarı yeterli düzeye ulaştığında son ürün ilk enzime bağlanarak enzimin çalışmasını durdurur. Bu durumda takımında yer alan geriye kalan enzimler de çalışamaz. Bu olaya negatif geri bildirim denir.



Yeteri düzeyde son ürün oluşunca bu ürün Enzim 1'e bağlanarak reaksiyonu durdurur.

→ Hücrede her enzim, belirli bir genin kontrolünde sentezlenir.



→ Enzimler hücrede içinde ribozomda sentezlenir.

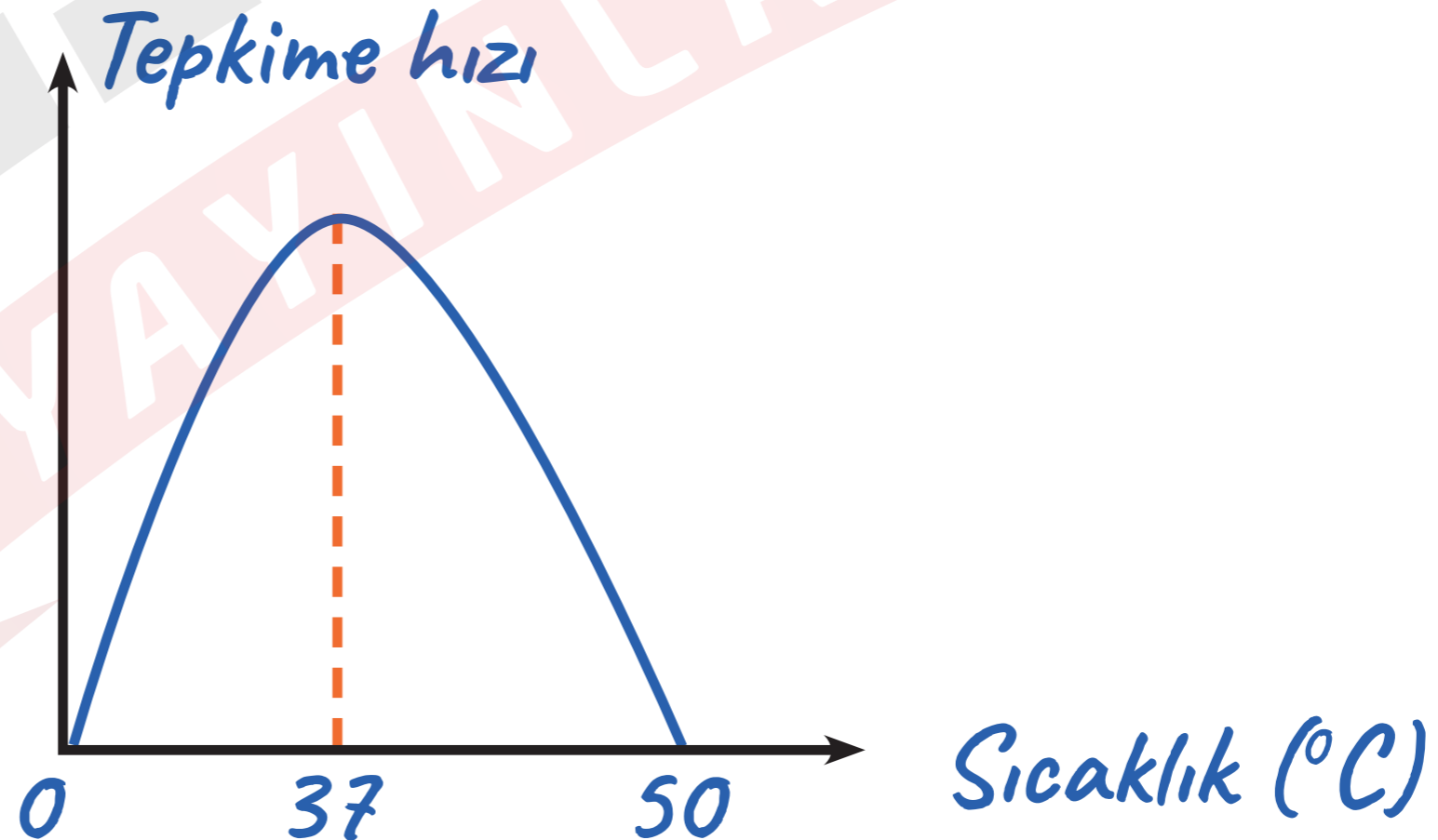
→ Hücre içinde ve hücre dışında çalışabilirler.

→ Enzimler, etkilerini sulu ortamda gösterir. Su derişimi %15'in altında olan ortamlarda enzimler çalışamaz.

# Enzimlerin Çalışma Hızına Etki Eden Faktörler

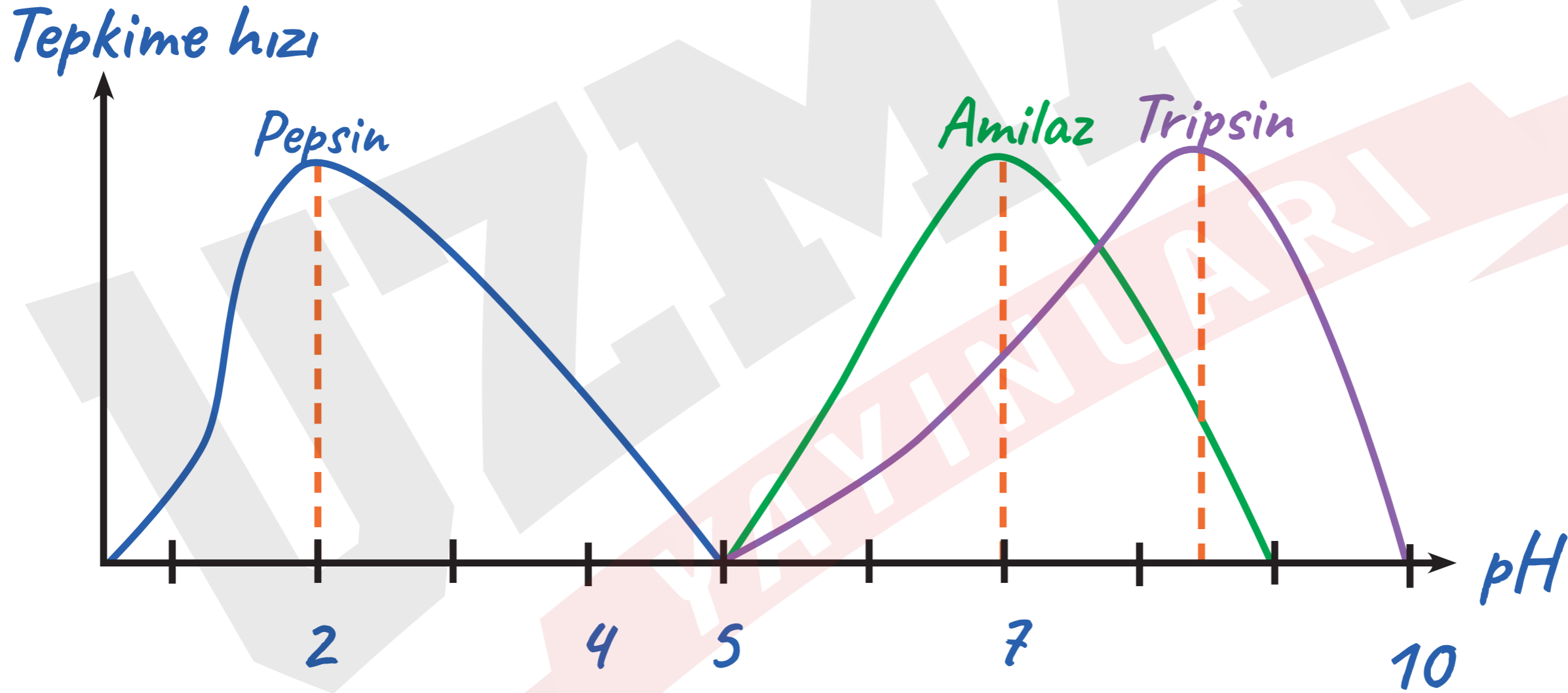
## Sıcaklık

- Enzimler protein yapılı oldukları için ortamdaki sıcaklık değişimlerinden etkilenirler. Enzimin en iyi çalışabileceği sıcaklığa optimum sıcaklık denir. Enzimlerin yapısı yüksek sıcaklıkta ( 55-60 °C) bozulur(denatürasyon) düşük sıcaklıkta bozulmaz..



# pH değeri


→ Her enzimin kendine uygun en iyi çalıştığı bir pH aralığı vardır. Enzimin en iyi çalışabildiği değere optimum pH denir.



# Enzim-substrat miktarı

→ Enzim ve substrat miktarları yeterli olduğunda tepkime hızı artar.


Tepkime hızı



Yeterli enzim  
Yeterli substrat

→ Sınırlı enzim-Yeterli substrat olduğunda: Enzim miktarı sabit tutulup substrat miktarı artırıldığında reaksiyon bir süre artar sonra sabit hızla devam eder.

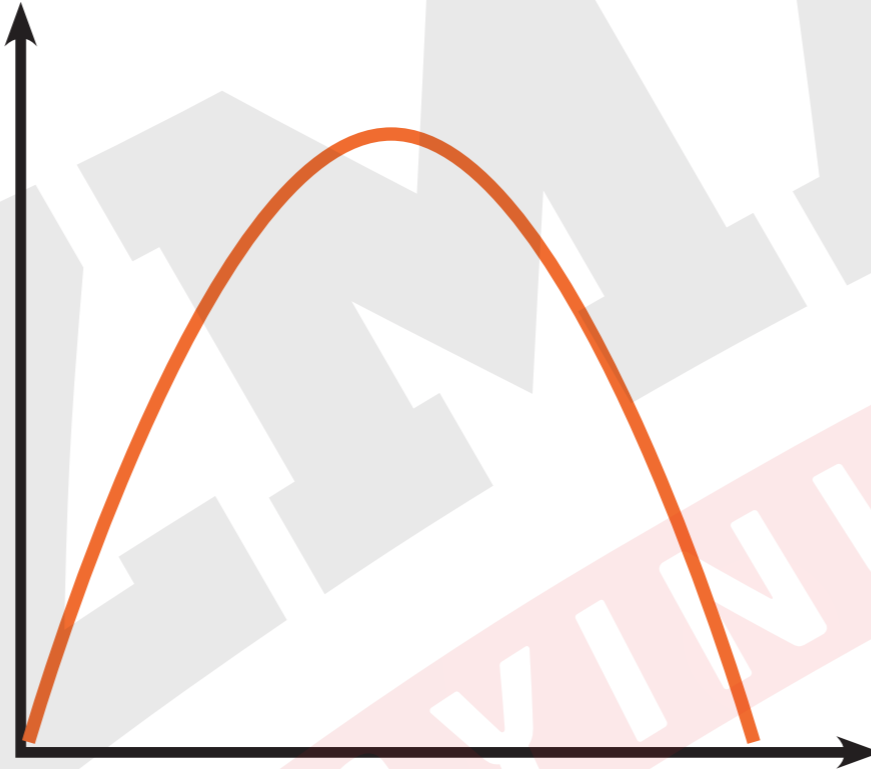
Tepkime hızı



Sınırlı enzim  
Yeterli substrat

- Enzim miktarı yeterli substrat miktarı sınırlı ise tepkime önce bir süre artar. Daha sonra sınırlı substrat tükeneceği için tepkime durur.

Tepkime hızı



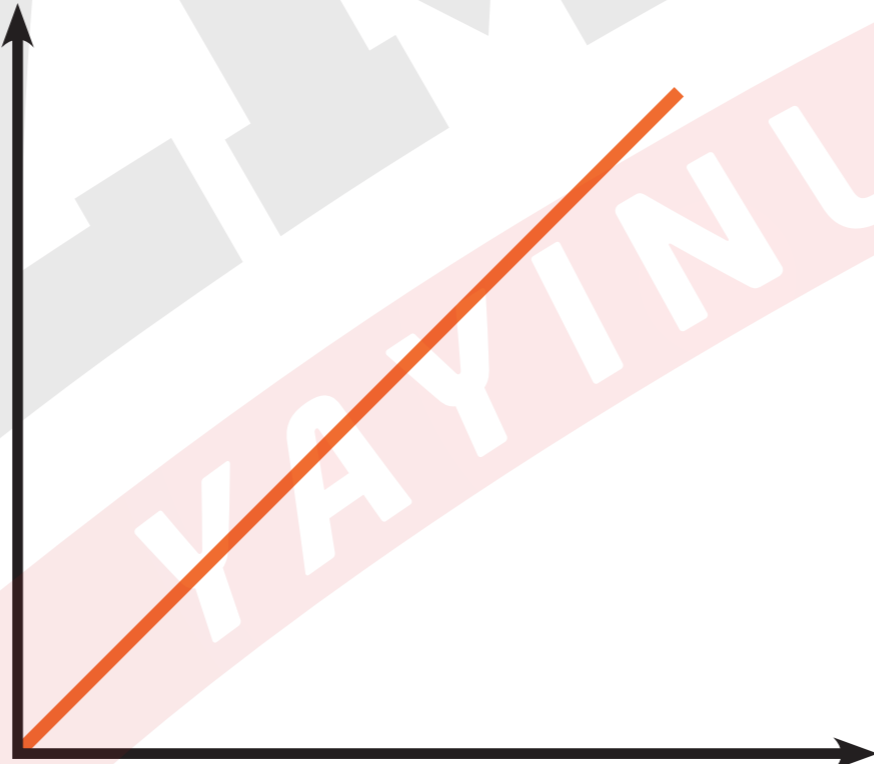
Yeterli enzim  
Sınırlı substrat



# Substrat yüzeyi

- Enzim etkinliği substratın dış yüzeyinden başladığı için substrat yüzeyi arttıkça tepkimenin hızı da artar.

Tepkime hızı

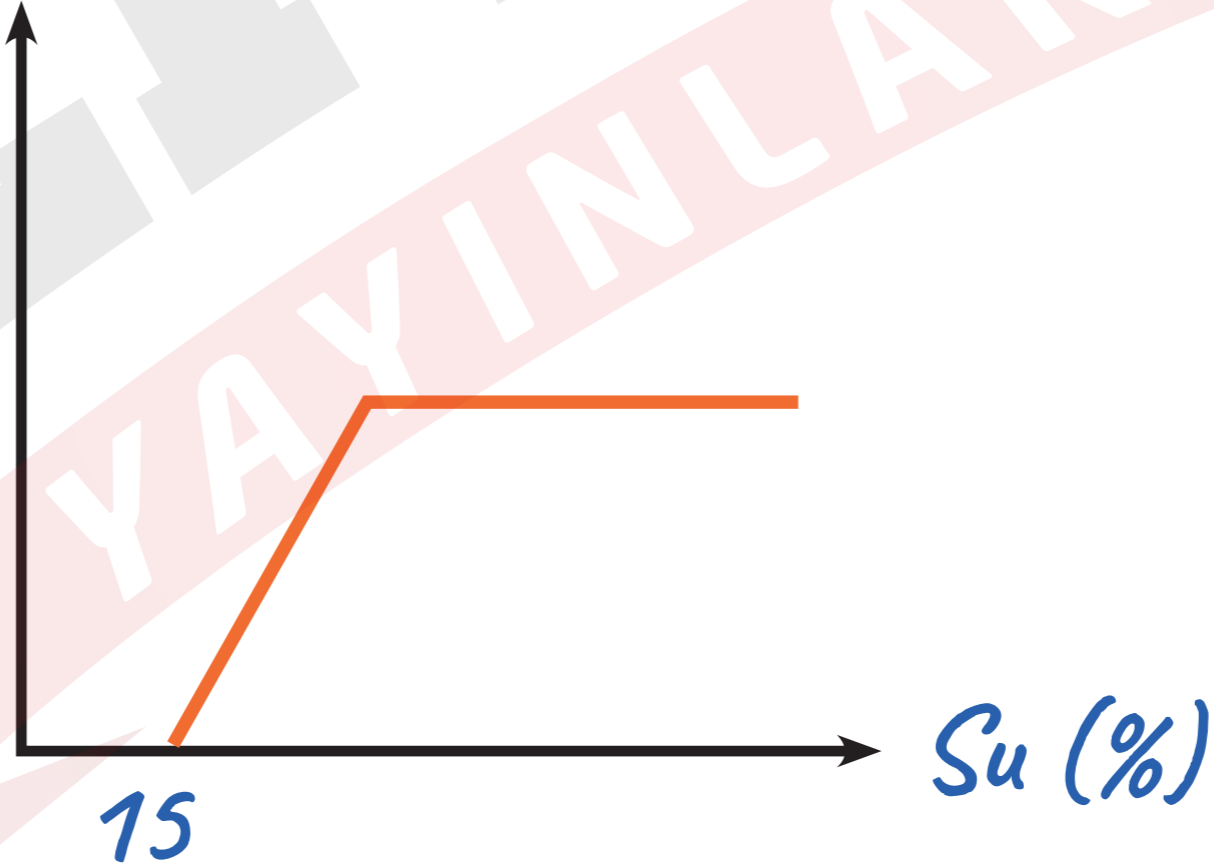


Substrat yüzeyi

# SU

- Enzimler, etkinliklerini sulu ortamda gösterdiğinden su derişimi enzimlerin etkinliğini deęiřtirir. Su derişimi %15'in altında olan ortamlarda enzimler alıřmaz.

Tepkime hızı

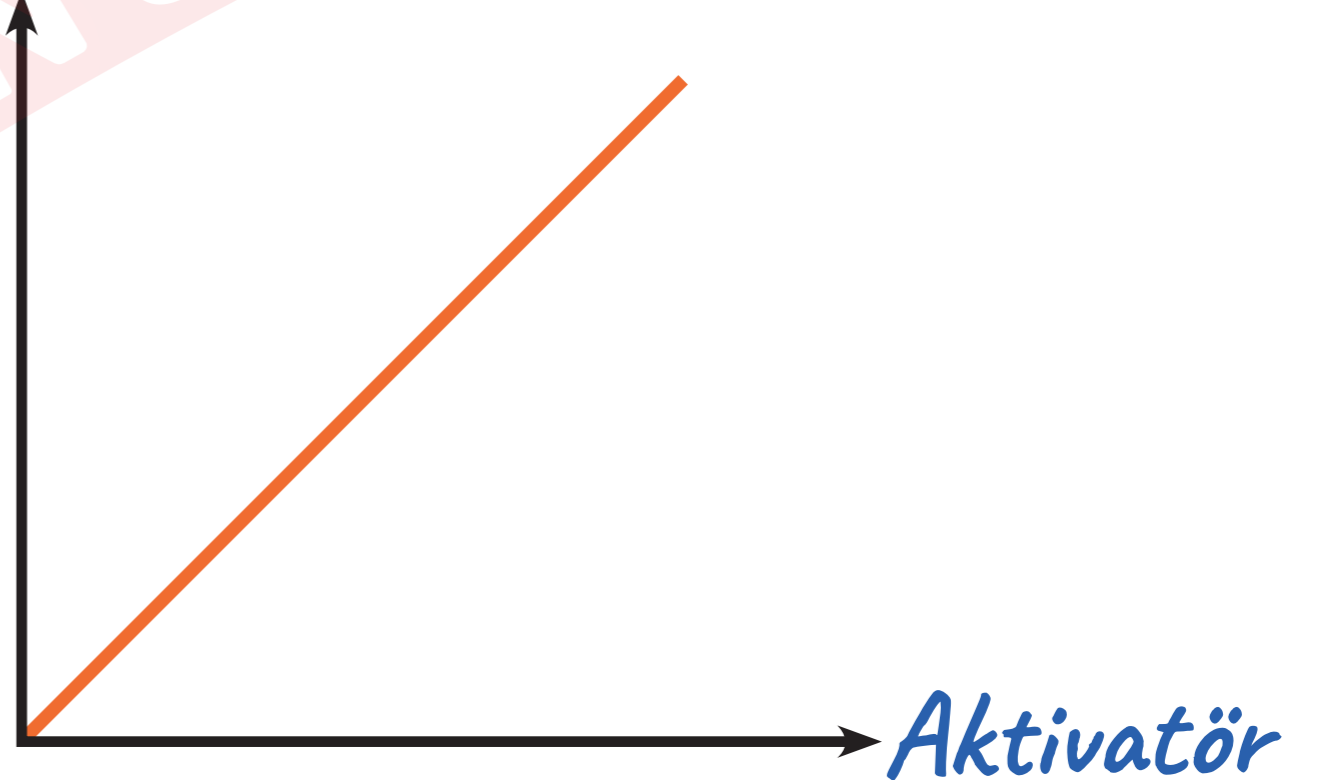


# Aktivatör ve İnhibitör Maddeler

- Bazı maddeler, enzimlerin etkinliğini arttırır. Bu maddelere aktivatör madde denir.
- İnhibitör maddeler: Bazı maddeler de enzimlerin etkinliğini yavaşlatır veya durdurur. Bunlara inhibitör madde denir. Siyanür, kurşun, civa gibi ağır metal iyonları inhibitör maddelerdir..



Tepkime hızı



# ATP (ADENÖZİN TRİ FOSFAT)

## ATP' nin yapısı

- Adenin bazı,
- Riboz şekeri (pentoz)
- Fosfat grubu (fosforik asit) bulunur.





Adenozin

Adenozin *mono* fosfat = AMP

Adenozin *di* fosfat = ADP

Adenozin *tri* fosfat = ATP

# ATP nin özellikleri

- Tüm canlılar tarafından sentezlenir.
- Hücrede depo edilemez.
- Hücre içinde sentezlenir ve hücre içinde harcanır,hücre dışına çıkamaz.
- Sitoplazma,mitokondri,kloroplastta sentezlenir.

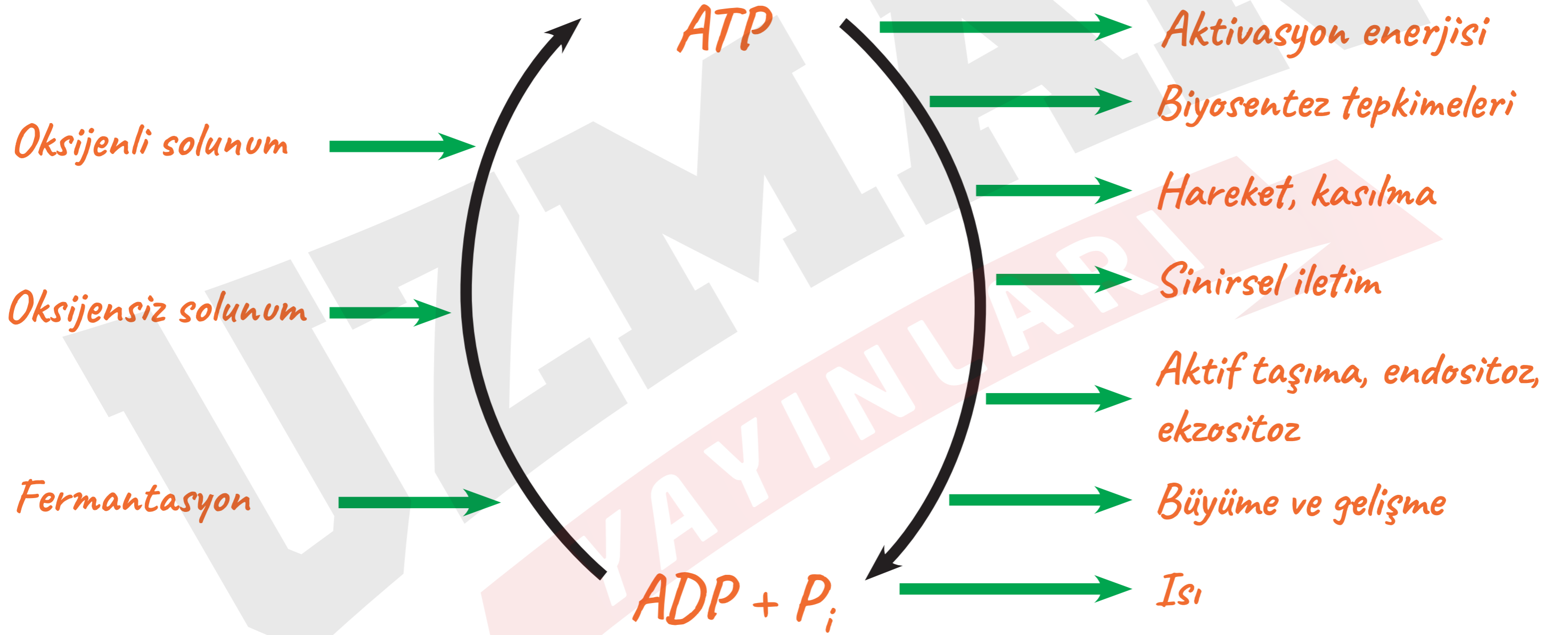


- Yapısında iki tane fosfat bađı bulunur. Bu fosfat bađlarının kopmasıyla ađıđa ıkan enerji hcrelerdeki metabolik olaylarda kullanılır.
- Hcrede ADP'ye bir fosfat grubunun eklenmesi sonucu ATP sentezlenir( fosforilasyon) ATP sentezi enerji harcanarak gerekleřtiđi iin endergonik tepkimedir.
- ATP'den su ve ATPaz enzimi aracılıđı ile bir fosfat bađının kopması ile tekrar ADP oluřur. (defo sforilasyon) Olayda enerji ađıđa ıktıđı iin ekzergonik tepkimedir.

$ATP + H_2O$



$ADP + P_i + Enerji (7300 cal)$





# HORMONLAR

- Hormonlar; salgı bezi veya salgı hücrelerinden salgılanan ve hedef hücreler üzerinde düzenleyici etki gösteren, amino asit, protein ve steroit yapılı organik bileşiklerdir.
- Hayvanlarda özel bezler tarafından üretilen hormonlar, kan ve vücut sıvılarıyla hedef organlara taşınır.
- Hormonlar; büyüme, gelişme, üreme ve homeostaziyi sağlama gibi görevlere sahiptirler.
- Bitkilerde üretilen hormonlar büyüme, çiçeklenme, meyve oluşumu, yaprak dökümü gibi olayları düzenler.

# Hormonlar

Amino asit türevi

Yağ asidi türevi  
(steroid)

Protein

Tiroksin

Adrenalin

Nöradrenalin

Östrojen

Progesteron

Testosteron

Aldosteron

Kortizol

İnsülin

Glukagon

Büyüme

ADH

FSH

TSH



# NÜKLEİK ASİTLER

- Canlılarda enerji üretimi, protein sentezi, hücre bölünmesi gibi yaşamsal olaylar nükleik asitlerdeki bilgilerle kontrol edildiği için nükleik asitlere yönetici moleküller de denir.
- Nükleik asitler, nükleotid adı verilen yapı birimlerinden meydana gelir.
- Baz ve şekerin glikozit bağı ile bağlanarak oluşturduğu yapıya nükleozit denir.
- Nükleozite bir fosfat, ester bağı ile bağlanarak nükleotid oluşur.

## Bir nkleotidin yapısında ;

→ Azotlu organik bir baz,

→ Beş karbonlu bir şeker,

→ Fosfat grubu (fosforik asit =  $H_3PO_4$ ) bulunur.



UZMANLARIN  
YAYINLARI

# Azotlu organik bazlar

→ Azot ve karbon atomlarının halka şeklinde birleşmesi ile meydana gelir. İki çeşittir.

## Pürinler :

→ Çift halkalı, büyük moleküllerdir. Adenin (A) ve Guanin (G) olmak üzere iki çeşittir.



## Pirimidinler :

- Tek halkalı olup, küçük moleküllerdir. Timin (T), Sitozin (S veya C) ve Urasil (U) olmak üzere üç çeşittir.
- DNA'daki bazlar: A,T,G,C; RNA'daki bazlar: A,U,G,C
- DNA'ya özgü baz Timin, RNA'ya özgü baz ise Urasil'dir.

## 5 karbonlu şeker(pentoz):

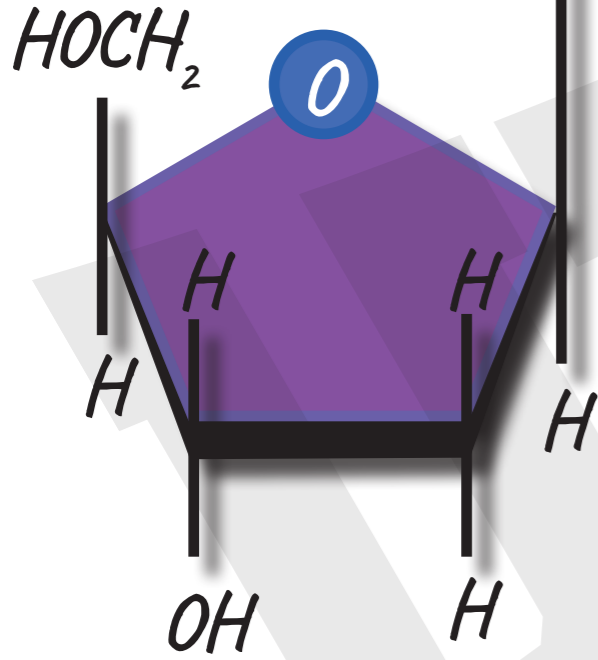
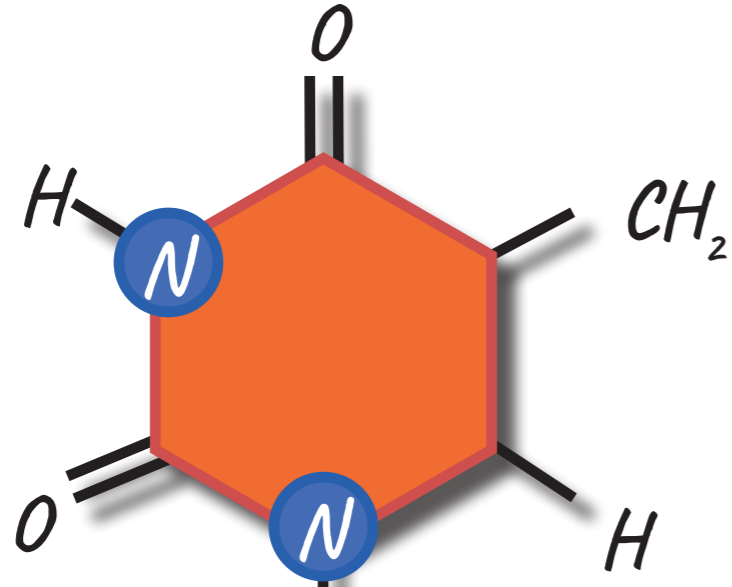
- DNA'nın yapısında deoksiriboz, RNA'nın yapısında riboz şekeri bulunur.

## Fosfat grubu( $H_3PO_4$ ):

- DNA ve RNA moleküllerinin her ikisinin yapısında da fosfat grubu ortak olarak bulunur.

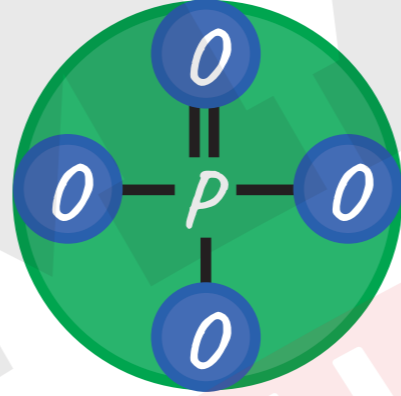


Azotlu organik baz



ŞEKER

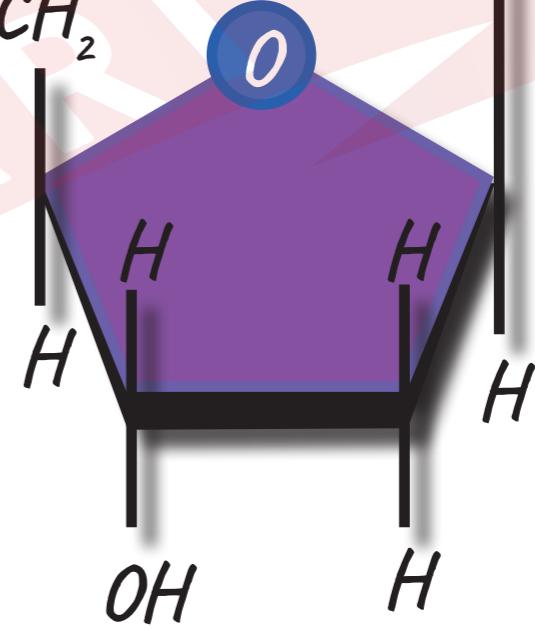
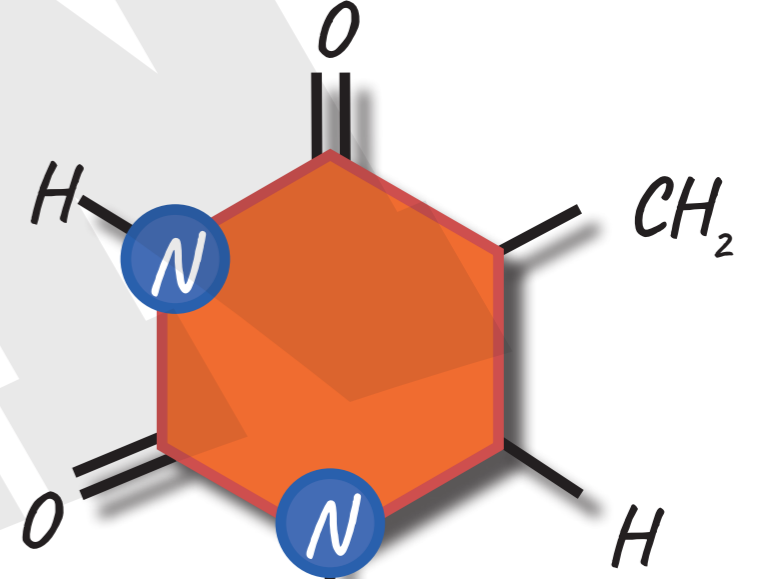
Glikozit bağı



Fosfat grubu

Ester bağı

Azotlu organik baz



ŞEKER

Glikozit bağı

→ Canlılarda; DNA (Deoksiribonükleik Asit) ve RNA (Ribonükleik Asit) olmak üzere iki çeşit nükleik asit vardır.

Deoksiribonükleik Asit (DNA)	Ribonükleik Asit (RNA)
Yapısında adenin, guanin, sitozin ve timin organik bazları bulunur.	Yapısında adenin, guanin, sitozin ve urasil organik bazları bulunur.
Yapısında deoksiriboz şekeri vardır.	Yapısında riboz şekeri vardır.
Yapısında inorganik fosfat grubu bulunur.	Yapısında inorganik fosfat grubu bulunur.
Çift ipliklidir.	Tek ipliklidir.

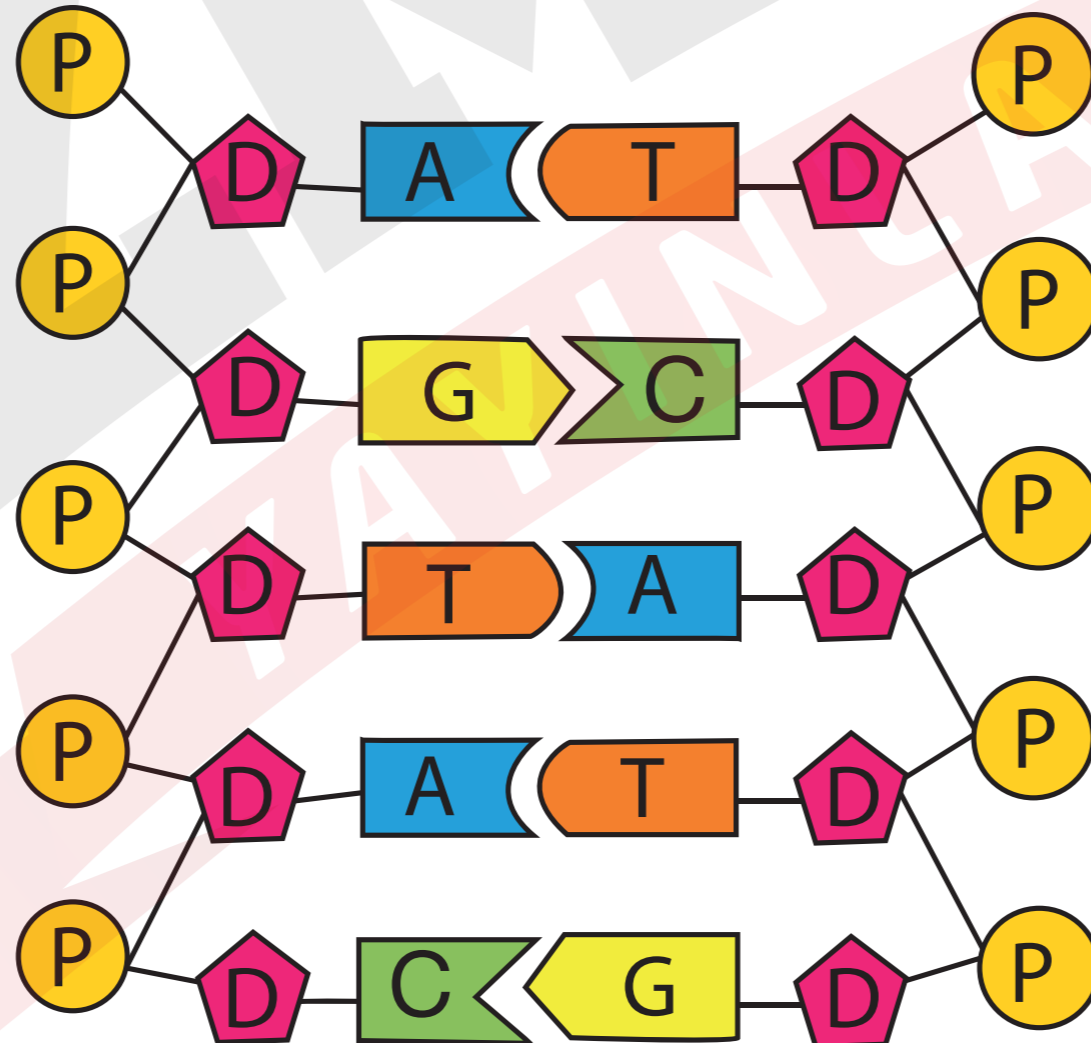


Deoksiribonükleit Asit (DNA)	Ribonükleit Asit (RNA)
Kendini eşleyebilir ve onarabilir.	Kendini eşleyemez ve onaramaz.
Yıkılıp yeniden yapılamaz.	Yıkılıp yeniden yapılabilir.
Ökaryot hücrelerde çekirdek, çekirdekçik, mitokondri ve kloroplastlarda; prokaryot hücrelerde ise sitoplazmada bulunur.	Ökaryot hücrelerde çekirdek, çekirdekçik, mitokondri, kloroplast ve ribozomlarda prokaryot hücrelerde ise sitoplazma ve ribozomlarda bulunur.
Protein sentezine dolaylı olarak katılır.	Protein sentezine doğrudan katılır.
A/T, G/C, Pürin/Pirimidin oranları 1'e eşittir.	Böyle bir oran yoktur.



# DNA (DEOKSİRİBONÜKLEİK ASİT)

- DNA molekülü çok sayıda nükleotitten meydana gelmiş çift iplikli sarmal yapı bir polinükleotittir.
- Canlılarda kalıtım maddesi özelliğine sahip olup protein sentezini yönetir.



- DNA molekülünde karşılıklı iki zincirde bulunan pürin ve pirimidin bazları arasında daima adenin karşısında timin; guanin karşısında sitozin gelir.
- Tüm DNA moleküllerinde A/T, G/C, Pürin/Pirimidin oranları 1'e eşittir. Canlıların DNA'larındaki A+T/G+C oranı ise türe özgüdür.



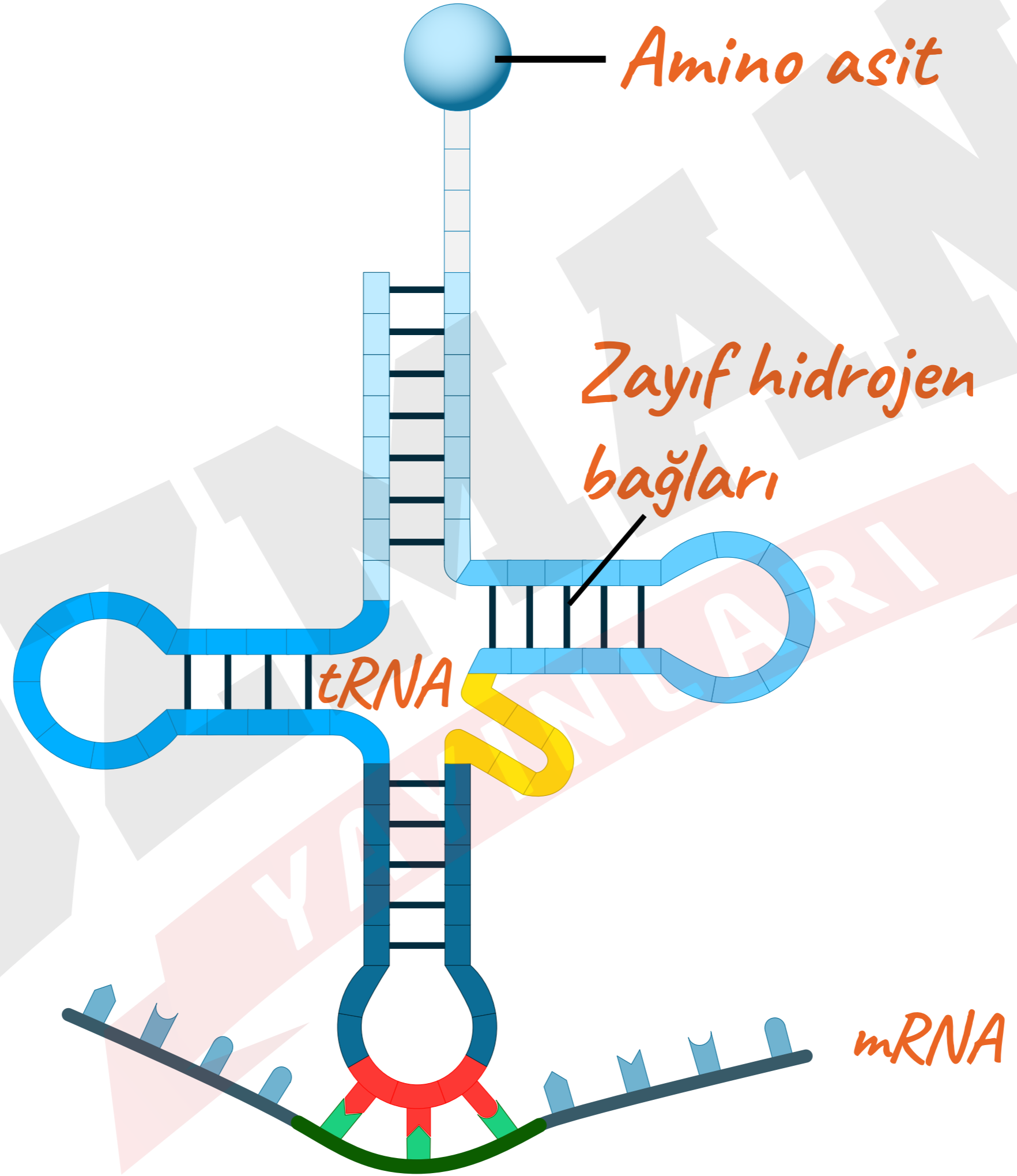
- DNA, sarmal oluřturacak řekilde aynı eksen etrafında saęa dönen iki iplikten oluřur. Art arda gelen řeker ve fosfat gruplarının oluřturduęu omurga, ikili sarmalın dıř tarafında yer alır.
- Pirimidin ve pürin bazları karřılıklı gelecek řekilde sarmalın iç tarafında dizilir. Adeninler ile timinler arasında ikili, guaninler ile sitozinler arasında üçlü zayıf hidrojen baęları vardır.
- Hidrojen baęların oluřumları sırasında su aęıęa çıkmaz.



- Ökaryot hücrelerde çekirdek, mitokondri ve kloroplastta; prokaryot hücrelerde ise sitoplazmada bulunur.
- Hücre bölüneceđi zaman çekirdeđindeki tüm DNA moleküllerinin kendilerinin hatasız birer kopyasını çıkarması olayına replikasyon denir.
- Bir canlının vücut hücrelerindeki DNA'ları oluşturan nükleotitlerin sırası ve sayısı aynıdır.

# RibonükleikAsit (RNA)

- RNA, DNA' dan aldığı genetik bilgi ile protein sentezini gerçekleştiren tek zincirli polimerdir.
- Tüm RNA çeşitleri DNA üzerinden sentezlenir.
- RNA, prokaryot hücrelerde sitoplazma ve ribozomlarda; ökaryot hücrelerde çekirdek, çekirdekçik, sitoplazma, ribozom, mitokondri ve kloroplastlarda bulunur.
- RNA molekülü DNA gibi kendini eşleyemez ve onaramaz.



→ Üç çeşit RNA bulunmaktadır. Bunlar;

- **Mesajcı (haberci) RNA (mRNA)** : Protein sentezi için gerekli olan genetik bilgiyi DNA'dan alıp sitoplazmadaki ribozomlara taşırlar.
- **Taşıyıcı RNA (tRNA)** : Protein sentezi için gerekli olan amino asitleri sitoplazmadan ribozoma taşır. Tek zincirden oluşur fakat DNA üzerinden sentezlendikten sonra kendi üzerinde katlanıp zayıf hidrojen bağı ile bağlanarak üç boyutlu özel bir şekil alır .
- **Ribozomal RNA (rRNA)** : Proteinlerle birlikte ribozomların yapısına katılan ve çekirdekçikte sentezlenen moleküllerdir.Hücrede en fazla bulunan RNA çeşididir.





## Örnek:

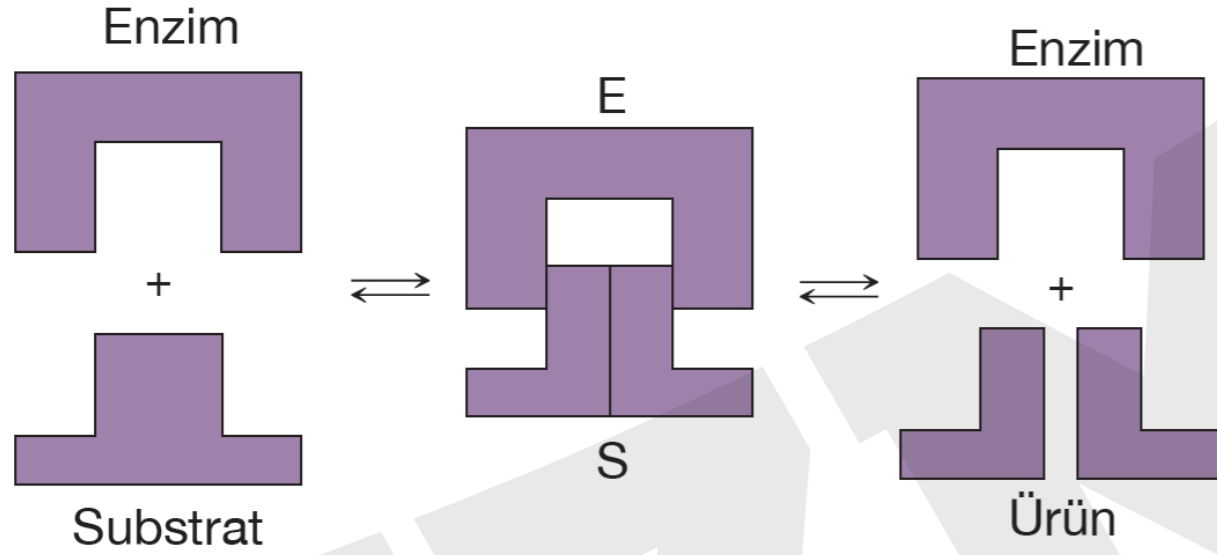
Bir enzim birçok çeşit maddeye tesir eden geniş bir etki alanına sahiptir.

**Buna göre, aşağıdakilerden hangisi bu duruma bir örnek olabilir?**

- A) Maltaz enziminin maltoza etki etmesi
- B) Amilaz enziminin nişastayı etkilemesi
- C) Lipaz enziminin tüm yağları etkilemesi
- D) ATPaz enziminin ATP'yi etkilemesi
- E) Laktaz enziminin laktozu etkilemesi

## Örnek:

Aşağıdaki şekilde biyokimyasal bir reaksiyonda enzim, substrat ve ürün ilişkisi verilmiştir.



Bu reaksiyonda kullanılan enzim ile ilgili,

- I. Tersinir çalışır.
- II. Substratın dış yüzeyini etkiler.
- III. Reaksiyon sırasında miktarlarında azalma olur.

yargılarından hangileri doğrudur?

- A) Yalnız I      B) Yalnız II      C) Yalnız III  
D) I ve II      E) I, II ve III

## Örnek:

Bir arařtırmacı, bitki özütüne niřasta ilave edip belli bir süre sonra lugol damlatıp ısıttığında renk deęişiminin olmadığını gözlemiřtir.

**Bu durum, bitki özütünde ařağıdaki maddelerden hangisinin bulunması ile gerekleřmiř olabilir?**

**(Not: Niřasta, lugol boyası ile mavi renk verir.)**

- A) DNA moleküllerinin
- B) ATP molekülünün
- C) Hidroliz enzimlerinin
- D) Dehidrasyon enzimlerinin
- E) RNA moleküllerinin

## Örnek:

Aşağıda DNA molükülünün bir ipliği verilmiştir.



Buna göre, bu iplikten sentezlenen mRNA'daki nükleotid dizilişi aşağıdakilerden hangisidir?

- A) TAA      SGS      GAA      TAT      SGG
- B) UAA      SGS      GAA      UAU      SGG
- C) AUU      GSG      SUU      AUA      GSS
- D) ATT      GSG      STT      ATA      GSS
- E) AUU      SGS      SUU      UAU      SGG