


9. Sınıf Orta ve İleri Düzey Tarih Soru Bankası

*Toplulukların Yeni Coğrafyalara Hareketleri
ve İlk Çağın Tüccar Toplulukları*



OSMAN SARI



TOPLULUKLARIN YENİ COĞRAFYALARA HAREKETLERİ VE İLK ÇAĞIN TÛCCAR TOPLULUKLARI

DOĐA-İNSAN VE GÖÇ

İÇ ASYA GÖÇLERİ

İLK VE ORTA ÇAĐDA TİCARET YOLLARI

İLK VE ORTA ÇAĐDA TÛCCAR TOPLULUKLARI

DOĞA-İNSAN VE GÖÇ

İlk yerleşim alanları ? → Dağlık bölge → Kuzey Mezopotamya → Savunma ihtiyacı

Ovalara Nasıl Göç edildi ? → Madeni silahların etkisi → Güney Mezopotamya

Kitlesel göçlerin nedenleri nelerdir?

- İklimdeki değişiklikleri
- Nüfus artışı
- Politik değişiklikler
- İnanç gruplarının baskı altına alınması



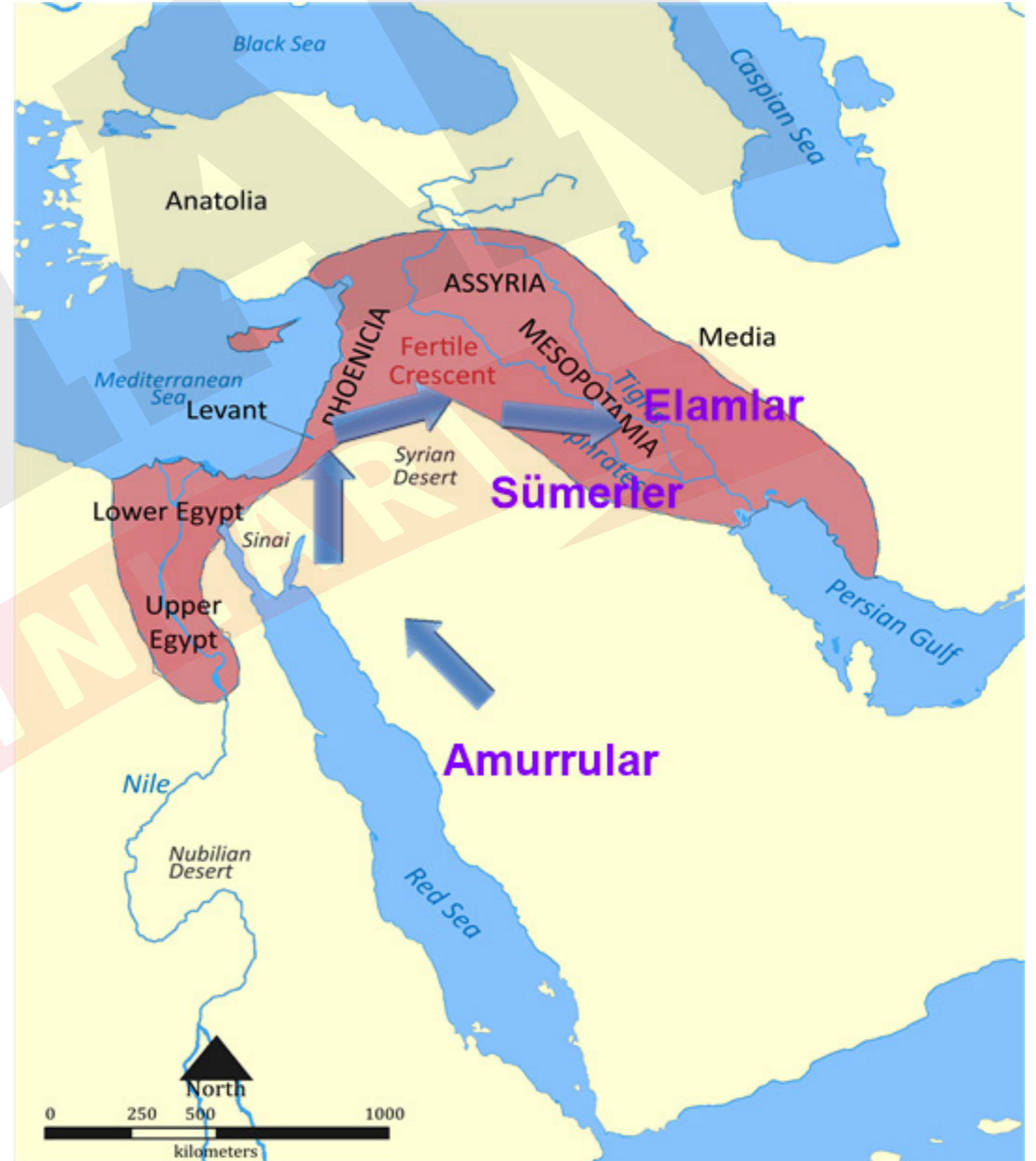
EGE GÖÇLERİ

- (Deniz Kavimleri Hareketi) MÖ XIII. yüzyıl sonları ile MÖ XII. yüzyıl başlarında iki aşamada yaşanmıştır.
- Dağlık arazilerin olduğu Balkanlar ve Doğu Avrupa üzerinden Yunanistan'a inen Aka ve Dorlar öncülüğünde Doğu Akdeniz'deki her yeri etkileyen göçlerdir.



DOĞA-İNSAN VE GÖÇ

→ Amurrular, MÖ III. binyılın son yüz yıllarında Arabistan'dan Filistin ve Suriye çevresine göç etmişler ve daha sonra buradan da doğuya doğru göçlerini sürdürmüşlerdir. Elamlar ile birlikte Sümer Devleti'nin yıkılmasında başlıca rolü oynamışlardır.

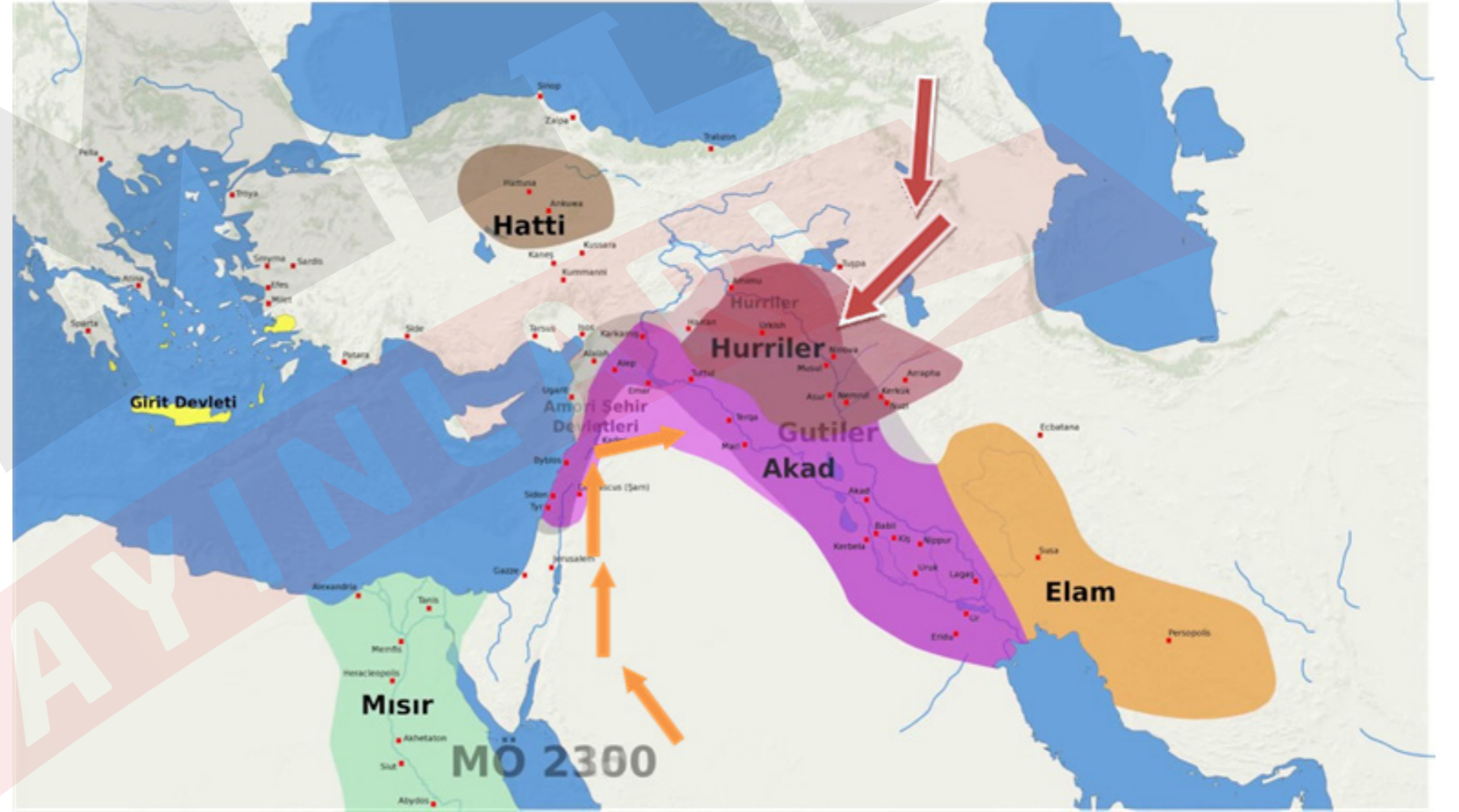


AKAD GÖÇLERİ

→ Akad göçü, MÖ III. binde Sami kökenli olan Akadların, Suriye'den Fırat Nehri'ni izleyerek Sümer ülkesine doğru yavaş yavaş gerçekleştirdiği göçlerdir. Bu göçler sonrasında Akadlar, Sümer kent kültürünü özümsemiş ve bu kültürü sonraki toplumlara aktarmıştır.

HURRİ GÖÇLERİ

→ Mezopotamya ve çevresine MÖ III. binyılın sonlarında büyük bir göç dalgasıyla kuzeyden gelen Hurriler; Doğu Anadolu, Orta Fırat Havzası ve güneyde Filistin'e kadar geniş bir alana yayılmıştır.



İÇ ASYA GÖÇLERİ

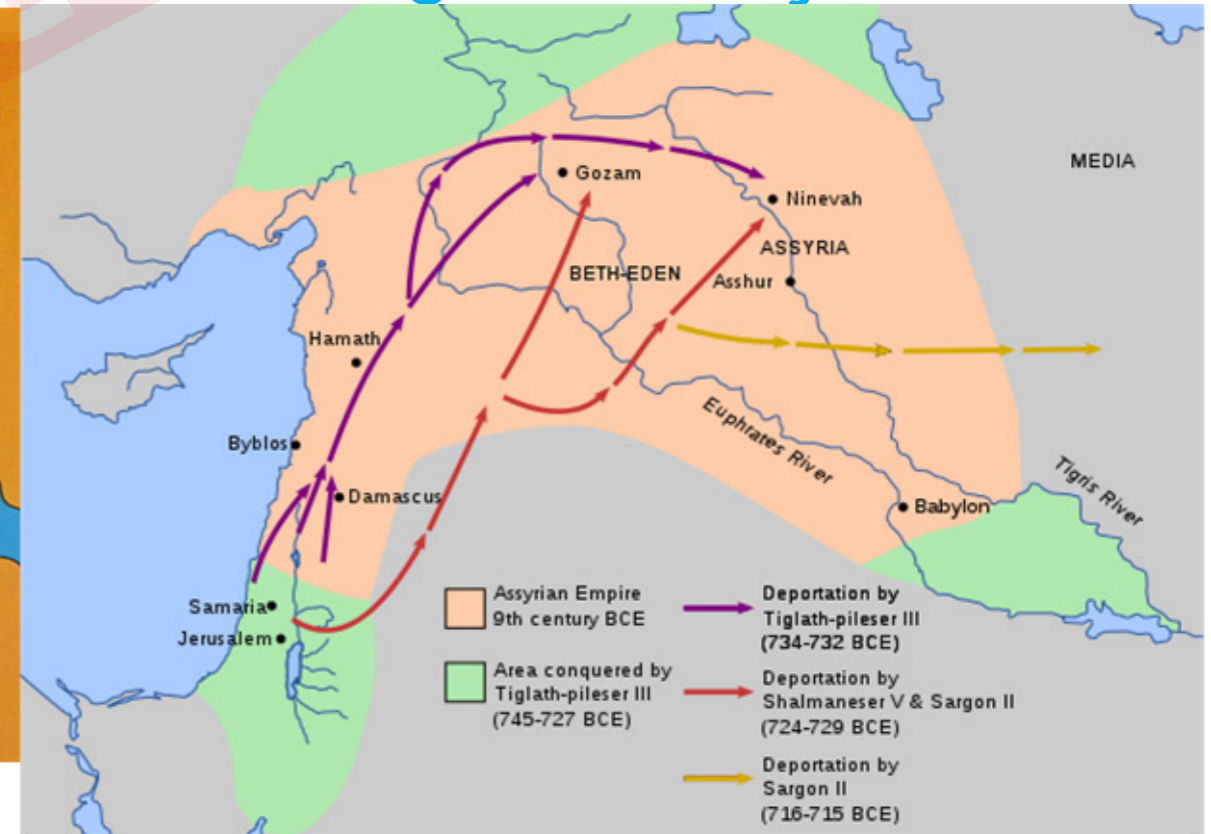
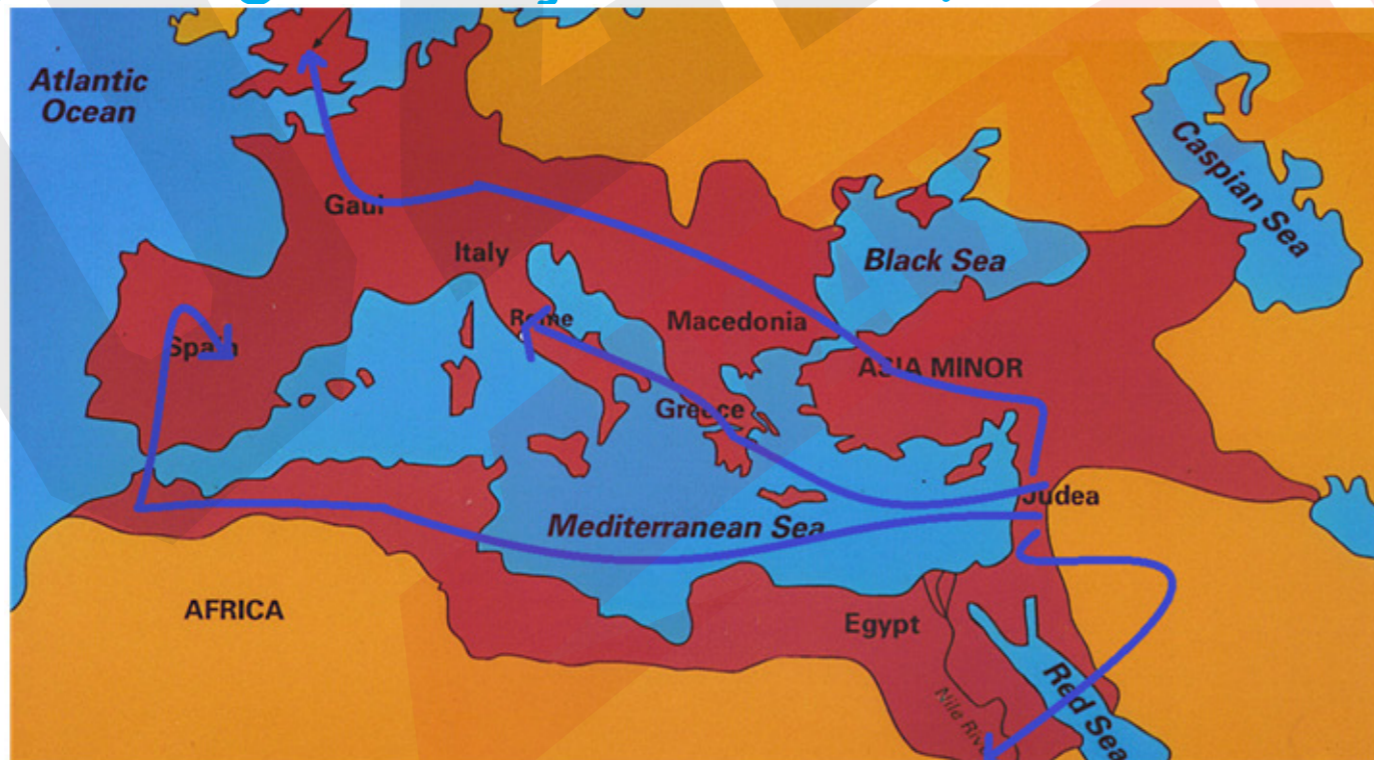
→ Orta Asya'dan dünyanın diğer coğrafyalarına milattan önce ve milattan sonraki dönemlerde yapılan Türk göçleridir.



İLK ÇAĞDA DİNİ BASKILARA BAĞLI GÖÇLER

YAHUDİ GÖÇLERİ

- I. Göç MÖ 587
- Babiller, Yahuda Krallığını istila ederek Kudüs Mabedi'ni tahrip etmiş ve nüfusun büyük bir kısmını sürgün etmiştir (Persler 70 yıl sonra dönüş izni verdi).
- II. Göç MS 135
- Roma egemenliğine karşı iki kez isyan ettikten sonra sürgün edilmişlerdir.



HRİSTİYAN GÖÇLERİ



→ I ve II. yüzyıllarda Roma İmparatorluğu sınırları içerisinde hızlı ve gizlice yayılması üzerine Hristiyanlığa karşı tepki göstererek onların ibadet etmelerini yasaklanınca Hristiyanlar yurtlarını terk etmiştir.

KAPADOKYA

ANTAKYA



İLK VE ORTA ÇAĞDA TİCARET YOLLARI

KRAL YOLU



İPEK - BA HARAT - KÜR K YOLU



İLK ÇAĞIN TÜCCAR TOPLULUKLARI

Asurlar

- (MÖ II. bin-MÖ 612 Mezopotamya)
- Anadolu'nun pek çok yerinde alış-veriş (Kaniş /Pazar yeri/Kayseri Kültepe) merkezleri kurmuşlardır.



Lidyalılar

- (MÖ VII. Batı Anadolu)
- Zengin maden yatakları vardır.
- Bu durum ilk para kullanımını başlatmıştır.



Fenikeliler

- Mısır, Kıbrıs, Girit ve Rodos dışında Sicilya, Sardunya ve İspanya'ya kadar uzanan bir çok yerde ticaret kolonileri kurmuşlardır.
- Kolonilerine sadece ekonomik amaçlarla gittikleri için uzun süre tutunamamışlardır.



Soğdlar

- Soğdlu tüccarlar Kök Türk koruması altındaki Çin'den İtalya'ya kadar uzanan İpek Yolu üzerindeki ticareti kontrol etmiştir. İslam öncesinde olduğu gibi İslami dönemde de Soğdlar, İpek Yolu üzerinde etkin rol oynamayı sürdürmüştür.



Örnek:

Ege Göçleri ile ilgili aşağıdaki bilgilerden hangisi yanlıştır?

- A) Daha çok Yunan imparatorluğunun egemenliğini yayma amaçlı gerçekleşmiştir.
- B) Ege ve Akdeniz'deki adalardan geldiği için tarihçiler bu göçlere Ege Göçleri ismini vermiştir.
- C) Göçler ilk olarak Yunanistan'dan başlamıştır.
- D) Göçlerin başlamasında Doğu Avrupa ve Balkanlardan güneye inen Dorlar'ın baskıları da etkili olmuştur.
- E) MÖ XIII. yüzyıl sonları ile MÖ XII. yüzyıl başlarında iki aşamada yaşanmıştır.

Örnek:

İlk Çağ' da bazı topluluklar inançlarından vazgeçmeyerek kendilerine uygulanan dinî baskılardan dolayı göç etmeyi tercih etmiştir.

Verilen göçlere örnek olarak;

- I. Müslümanların Mekke'den Medine'ye hicret etmesi,
- II. Roma baskısı nedeniyle Filistin Hıristiyanlarınının Kapadokya bölgesine yerleşmesi,
- III. Babiller'in, Yahuda Krallığı'nı istila ederek nüfusun büyük bir kısmını sürgün etmesi

gelişmelerden hangisi gösterilebilir?

A) Yalnız I

B) Yalnız II

C) I ve II

D) II ve III

E) I, II ve III



Örnek:



Verilen görseldeki medeniyetlerin ortak özelliği aşağıdakilerden hangisidir?

- A) Ön Asya medeniyetleri olma
- B) Doğu Akdeniz'de bir süre egemenlik kurma
- C) Ticarete etkin devletler arasında yer alma
- D) Orta Çağ uygarlıkları olma
- E) Ege göçleri sonucu ortaya çıkma

Örnek:

Anadolu'da ticaret kolonileri kuran Asurlular, bu koloniler aracılığıyla Anadolu'nun tarih çağlarına girmesine neden olmuştur.

Buna göre, Anadolu'nun tarih çağlarına girmesine neden olan gelişme aşağıdakilerden hangisidir?

- A) Yeni ticaret yollarının yapılması
- B) Merkezi devlet yapılanmasının görülmesi
- C) İlk kez paranın kullanılmaya başlaması
- D) Anadolu'da ilk yazılı kanunların oluşturulması
- E) Anadolu'da yazının kullanılmaya başlaması