


9. Sınıf Orta ve İleri Düzey Tarih Soru Bankası

Iran - Hint - Çin ve Mezopotamya
Medeniyetleri



OSMAN SARI



İRAN - HİNT - ÇİN VE MEZOPOTAMYA MEDENİYETLERİ

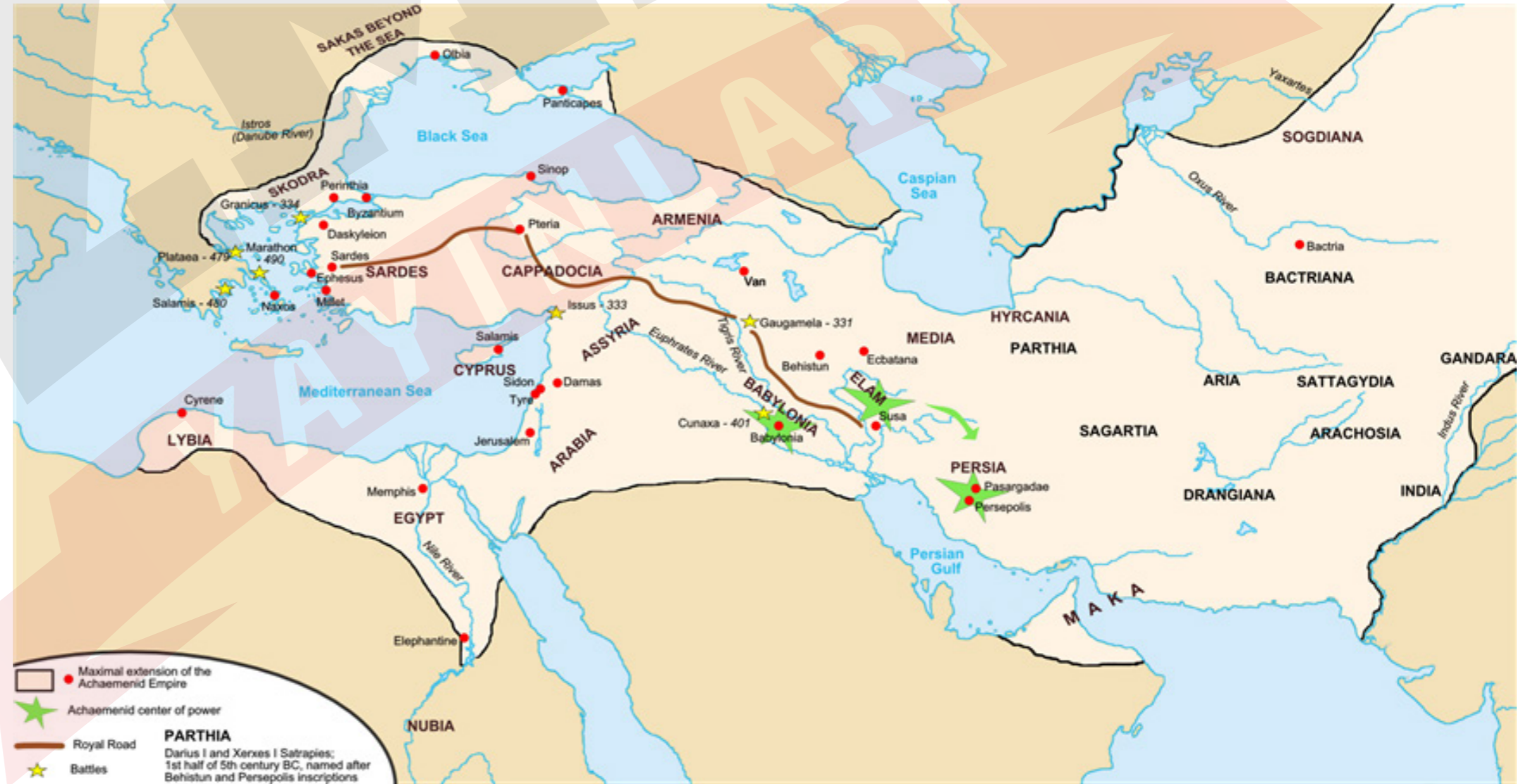
PERS İMPARATORLUĞU

MEZOPOTAMYA MEDENİYETİ

ÇİN MEDENİYETİ

PERS İMPARATORLUĞU

- Tarihte bilinen ilk posta teşkilatını kurmuşlardır.
- Zerdüştlük dini (ateşperest) hâkimdir.
- Ülkeyi "satraplık" denilen eyaletlere ayırmışlardır.
- Ticaret gelişmiştir. (Ticaret yolları üzerinde oldukları için)



MEZOPOTAMYA MEDENİYETİ

- Güneydoğu Anadolu Toroslari'ndan başlayarak Basra Körfezi'ne dökülen Fırat ile Dicle Nehirleri arasından kalan bölgeye Mezopotamya denir.
- İklimin elverişli olması,
- İrmaklarından sulamada yararlanılması,
- Topraklarının verimli olması
- Göç yolları üzerinde bulunması
- nedeniyle çok sayıda uygarlığa beşiklik yapmıştır.



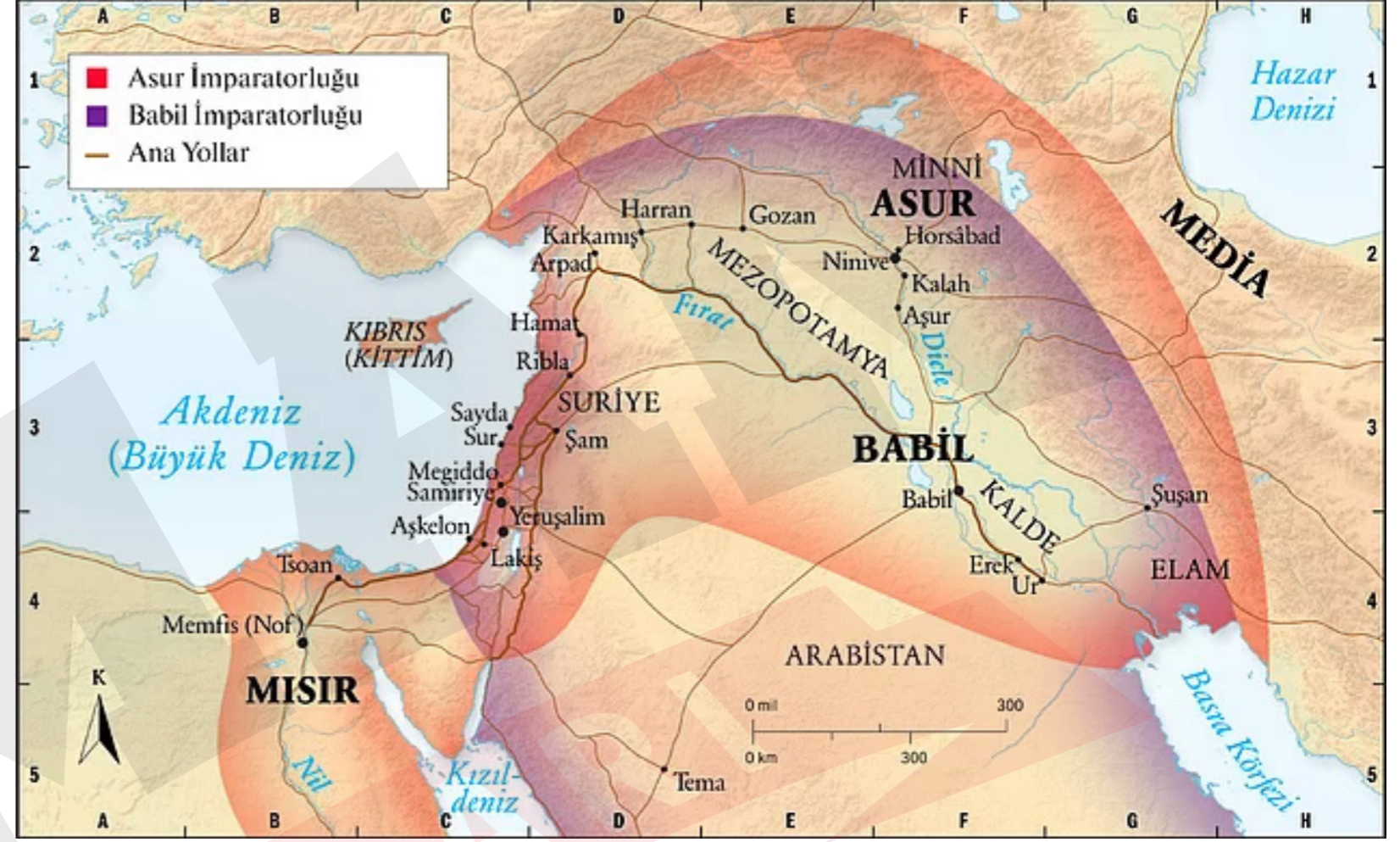
Sümer

- İlk yazı (Çivi Yazısı- Kil tablet)
- İlk takvim (Ay yılı- Ziggurat)
- İlk yazılı kanunlar (Urukagina)
- İlk hukuk devleti



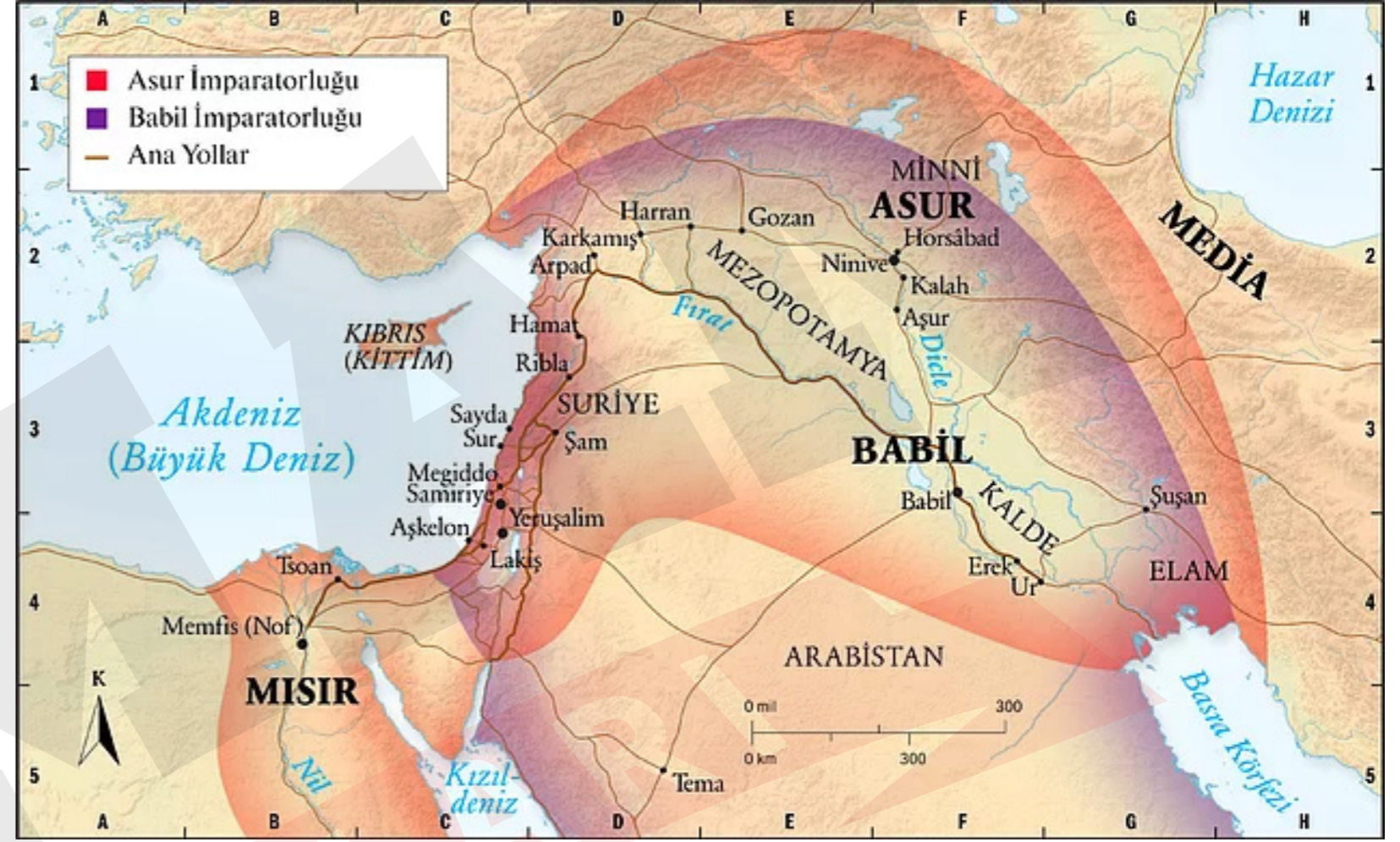
ASUR

- İlk Kütüphane (Ninova)
- İlk kara kolonociliği (Karum)
- Anadolu'ya yazıyı getirmişler



Babil

- İlk anayasa (Hammurabi)
- Babil kulesi
- Asma Bahçeleri



Çin medeniyeti

- Çin uygarlığının oluşumunda Çin Kültürünün yanında Türk, Moğol ve Tibet kültürleri de etkili olmuştur.
- Barut, pusula, kâğıt, dümen, ipek, mürekkep
- Ekonomisi büyük ölçüde tarıma dayanan Çin, İpek Yolu aracılığı ile de Avrupa içlerine kadar ticari faaliyetlerde bulunmuşlardır.



Örnek:

Dicle ile Fırat Nehirleri arasında kalan Mezopotamya göç yolları üzerinde bulunan, verimli toprakları ve elverişli iklimi olan bir bölgedir.

Bu durumun aşağıdakilerden hangisine neden olduğu söylenebilir?

- A) Bölgenin gelişmiş bir kültür coğrafyası olmasına
- B) Tanrı - Kral anlayışının oluşmasına
- C) Laik hukuk kurallarının ortaya çıkmasına
- D) Güçlü imparatorlukların kurulmasına
- E) Kalıcı mimari eserlerin yapılmasına

Örnek:

Aşağıdakilerden hangisi, Kuzey Mezopotamya'nın dağlık alanlarında kurulması sonucu tarım alanlarının azlığına bağlı olarak Anadolu ile ticaret yapmaya yönelen medeniyettir?

A) Babil

B) Asur

C) Elam

D) Mısır

E) Frig

YAYINLARI



Örnek:

Pers İmparatorluğu satraplıklara (eyaletlere) ayrılmış ve satraplıklar, başkentten atanan valiler tarafından yönetilmiştir.

Pers İmparatorluğu'ndaki bu durum aşağıdakilerden hangisini gösterir?

- A) Merkezî otoritenin önemsendiği
- B) İstilacı anlayış ile hareket edildiği
- C) Kültürel gelişmelerin yaşandığı
- D) Feodal tımar anlayışı ile hareket edildiği
- E) Anadolu kültüründen etkilenildiği

Örnek:

Tarihin en eski yerleşim birimleri olmalarına rağmen Anadolu ve Mezopotamya'nın siyasal tarihi savaş veya istilalar gibi nedenlerle sık sık kesintiye uğramıştır.

Bu durum her iki bölgenin;

- I. Ön Asya'da olmaları,
- II. göç yolları üzerinde bulunmaları,
- III. verimli topraklara sahip olmaları

özelliklerinden hangileriyle açıklanabilir?

A) Yalnız I

B) Yalnız II

C) Yalnız III

D) II ve III

E) I, II ve III



Örnek:

İlk Çağ'da,

- Sümer kanunları; rahiplerin halkı sömürmesini önlemek,
- Hammurabi kanunları, göçebe Sami kavimlerini itaat altına almak,
- Klistenes reformları; halkın yönetime katılmasını sağlamak

amaçları ile düzenlenmiştir.

Buna göre, hukuk sisteminin doğmasında ve gelişmesinde;

- I. hukuk devleti anlayışını inşa etmek,
- II. halkı korumak,
- III. devlet otoritesinin güçlendirmek

amaçlarından hangilerinin etkili olduğu savunulabilir?

A) Yalnız I

B) Yalnız III

C) I ve II

D) II ve III

E) I, II ve III

