


9. Sınıf Orta ve İleri Düzey Coğrafya Soru Bankası

Türkiye'de Yerleşmeler



MUSTAFA TOPAL



TÜRKİYE'DE YERLEŞMELER

TÜRKİYE'DE YERLEŞMEYİ ETKİLEYEN FAKTÖRLER

TÜRKİYE'DE İLK YERLEŞMELER

TÜRKİYE'DE İDARİ FONKSİYONLARINA GÖRE YERLEŞMELER

TÜRKİYE'DE YERLEŞMEYİ ETKİLEYEN FAKTÖRLER

Doğal Faktörler

1. Yeryüzü şekilleri

- Dağların uzanış yönü
- Eğim
- Bakı
- Yükselti






2. İklim

- Yağış
- Sıcaklık

3. Su kaynakları

4. Bitki örtüsü

5. Toprakların verimliliği



Beşeri Faktörler

1. Tarım

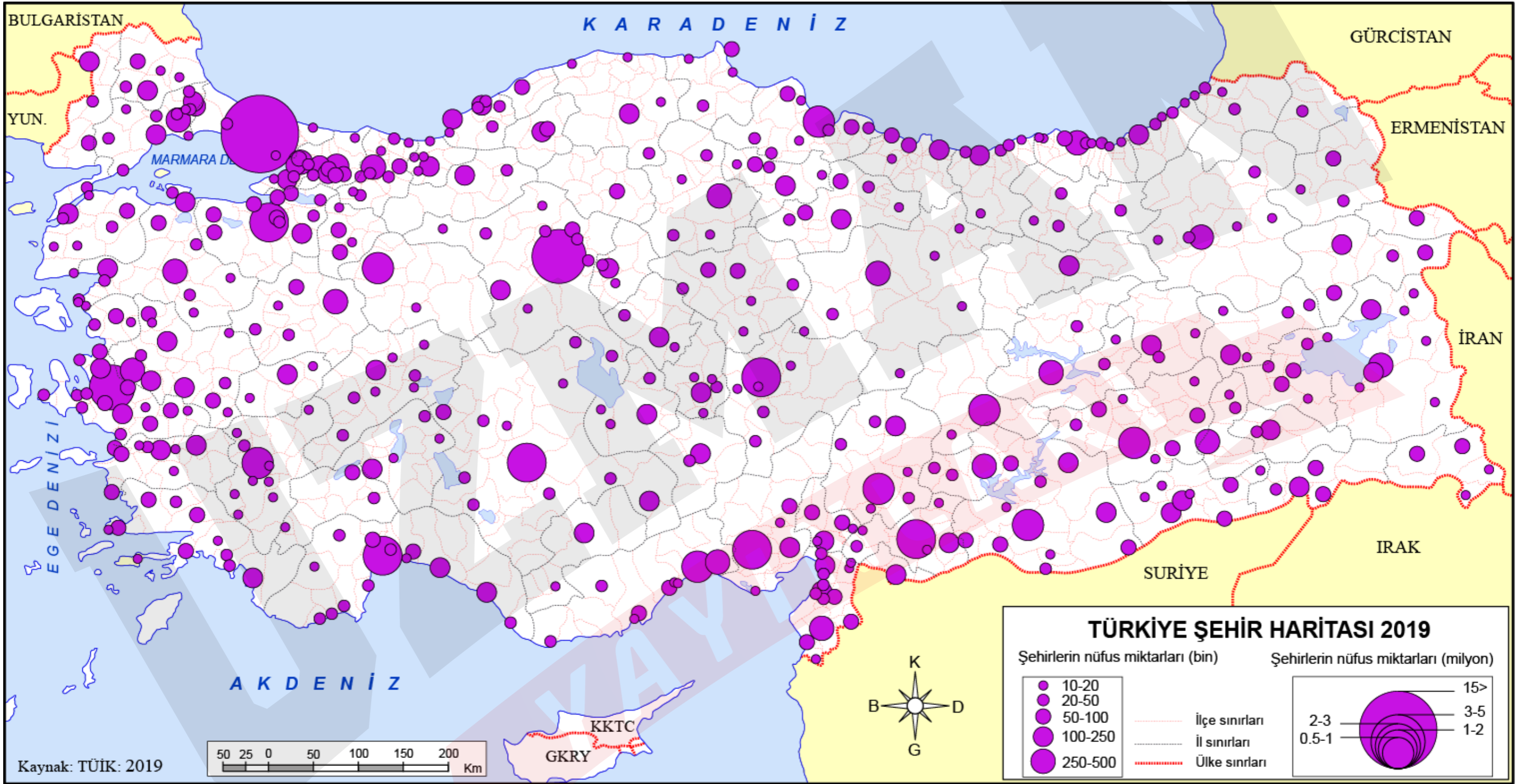
2. Göçler

3. Ulaşım


4. Ekonomik nedenler (Yer altı kaynakları, sanayi, turizm, ticaret vb.)



Türkiye'de Yerleşmelerin Dağılışı



TÜRKİYE'DE İLK YERLEŞMELER



TÜRKİYE'DE İDARİ FONKSİYONLARINA GÖRE YERLEŞMELER

Köy Yönetmel Alanı

Köy yöneticisi kimdir?

Hâkim fonksiyonlar nelerdir?

Türkiye'de kaç tane köy vardır?



İlçe Yönetmel Alanı

İlçe yöneticisi kimdir?

Hâkim fonksiyonlar nelerdir?

Türkiye'de kaç tane ilçe vardır?



Büyükşehir Yönetmel Alanı

Büyükşehir yöneticisi kimdir?

Hâkim fonksiyonlar nelerdir?

Türkiye'de kaç tane büyükşehir vardır?



Belde Yönetmel Alanı

Büyükşehir Olmayan İl Yönetmel Alanı

İl yöneticisi kimdir?

Hâkim fonksiyonlar nelerdir?

Türkiye'de kaç tane il vardır?



Kocaeli - İzmit

Hatay - Antakya

Sakarya - Adapazarı



YAYINLARI



Örnek:

Aşağıda verilen kentlerin hangisinin kırsal yerleşmelerinde dağınık yerleşmeler daha yaygındır?

A)



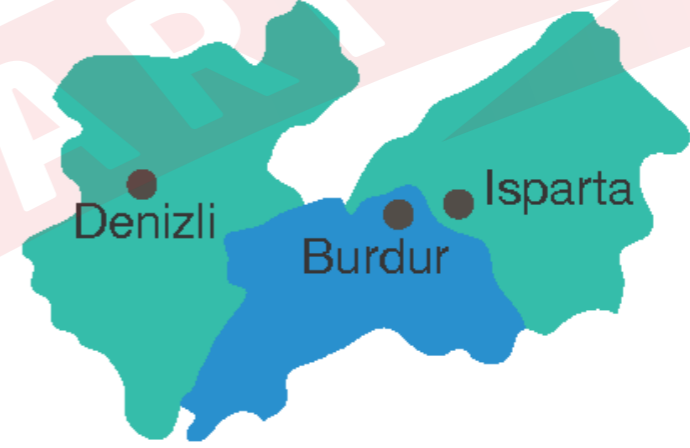
B)



C)



D)

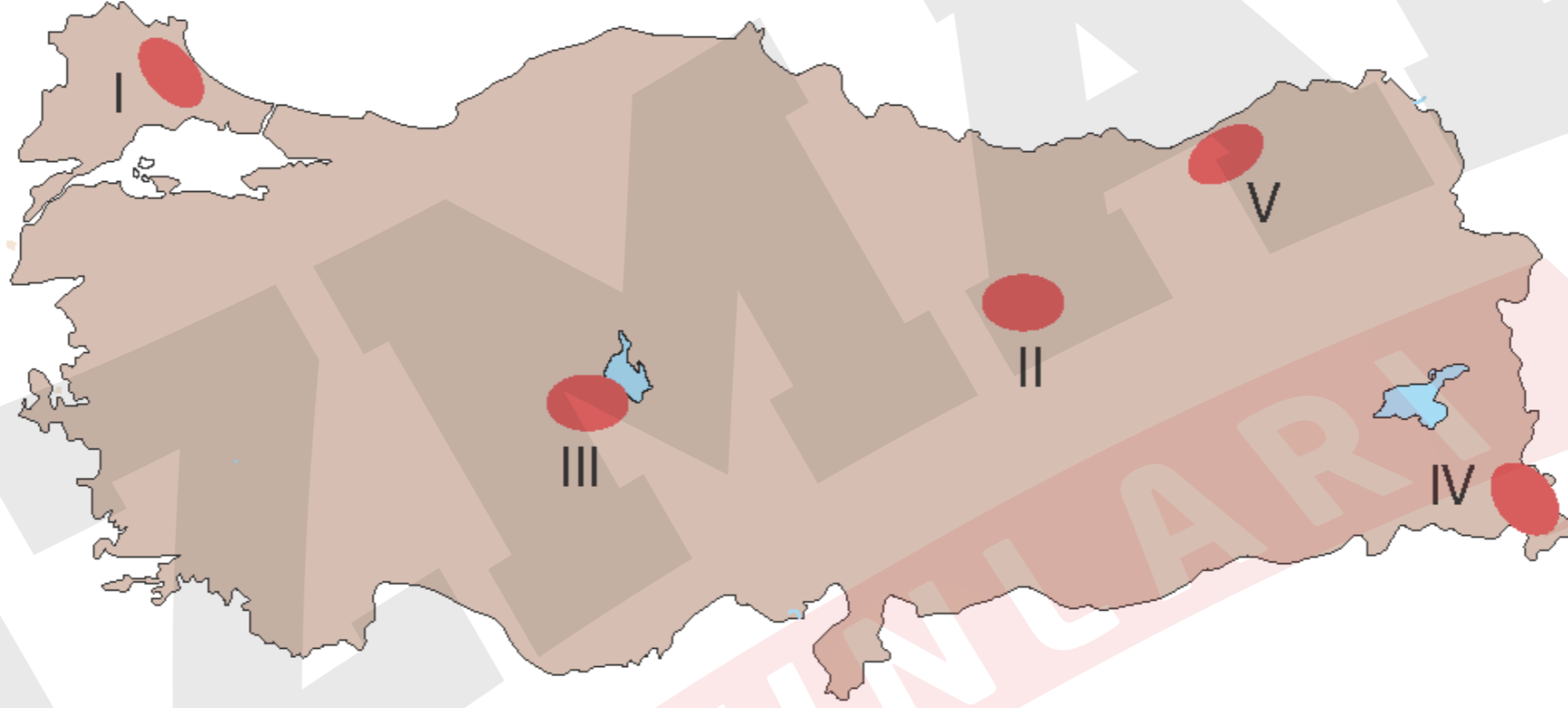


E)



Örnek:

Türkiye’de yerleşmeleri etkileyen faktörler iklim, yerşekilleri ve toprak özellikleri şeklinde sınıflandırılabilir.



Buna göre haritada verilen yerlerden hangisinde yerleşmelerin seyrek olmasında diğerlerinden farklı bir neden etkili olmuştur?

A) I

B) II

C) III

D) IV

E) V

Örnek:

Ülkemiz dünya yerleşim tarihi açısından oldukça önemlidir. İlk yerleşim alanlarının kurulduğu ülkemiz açık hava müzesi durumundadır. Bu durum üzerinde akarsuların büyük önemi vardır.

Aşağıdaki akarsulardan hangilerinde yerleşim alanları açısından önemi daha fazladır?

- A) Küçük Menderes – Büyük Menderes
- B) Fırat – Dicle
- C) Yeşilırmak – Kelkit
- D) Kızılırmak – Sakarya
- E) Aras – Kura