

1.ÜNİTE


U

9. Sınıf Orta ve İleri Düzey Coğrafya Soru Bankası

Türkiye'nin Konumu



MUSTAFA TOPAL



TÜRKİYE'NİN KONUMU

MUTLAK KONUMU

GÖRECELİ KONUMU

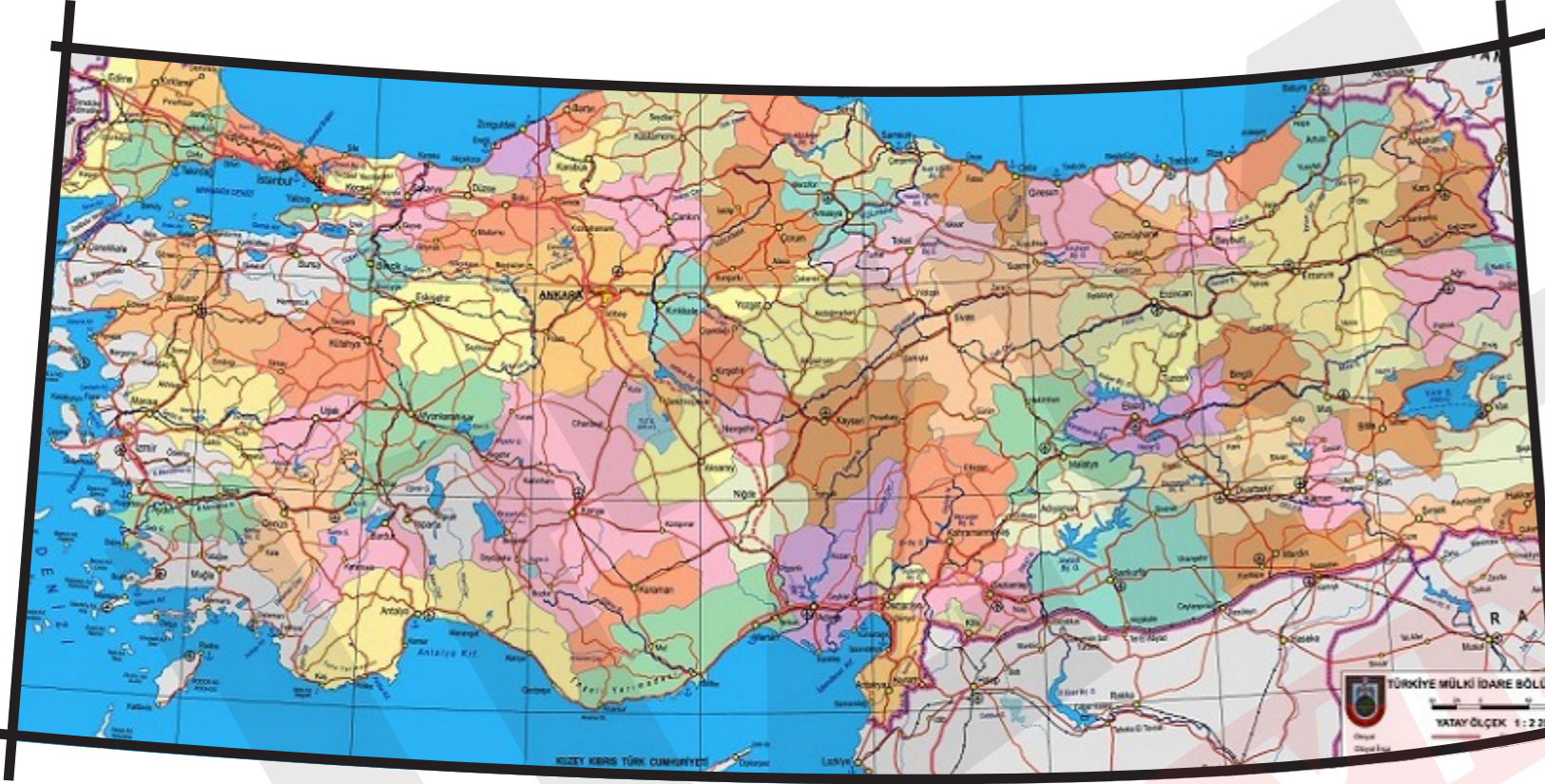
MUTLAK KONUMU

26°

45°

42°

Kuzey Kutup Noktası



36°



→ Türkiye, Kuzey Yarım Küre'de yer aldığı için kuzeye gidildikçe;

Sıcaklıklar

Güneş ışınları gelme açısı

Cisimlerin gölge boyu

Denizlerin tuzluluk oranı

Kalıcı kar sınırı

Üzerinden geçen paralellerin boyu

Üzerinden geçen ardışık iki meridyen arasındaki mesafe

→ Türkiye orta kuşakta yer aldığı için;

→

→ Türkiye'nin kuzeyi ile güneyi arasındaki kuş uçumu uzaklık km'dir.

→ Türkiye'nin doğusu ile batısı arasındaki yerel saat farkı dakikadır.

→ Türkiye, ve saat dilimlerinde yer alır.





- , ve kıtalarının birbirine en yakın olduğu yerde bulunması,
- ve gibi enerji kaynaklarının rezerv miktarının fazla olduğu Orta Doğu ülkeleri ile sınır komşusu olması
- ve boğazlarına sahip olması
- Jeolojik olarak oluşumlu bir ülke olması. Bu durumun sonucunda;
Deprem
sıcak su kaynakları
yükselti ortalaması
yer şekilleri çeşitlilik gösterir.
- Aynı anda özelliklerinin birlikte etkili olması
- Yarımada ülkesi olması
- Transit yollara ve enerji nakil hatlarına yakın olması



Örnek:

Türkiye'nin en uç noktalarında yer alan kentlerimiz aşağıdakilerden hangisidir?

A)

Doğu:	Erzurum
Batı:	İzmir
Kuzey:	Samsun
Güney:	Konya

B)

Doğu:	Van
Batı:	İzmit
Kuzey:	Trabzon
Güney:	Mardin

C)

Doğu:	Ağrı
Batı:	Edirne
Kuzey:	Rize
Güney:	Antalya

D)

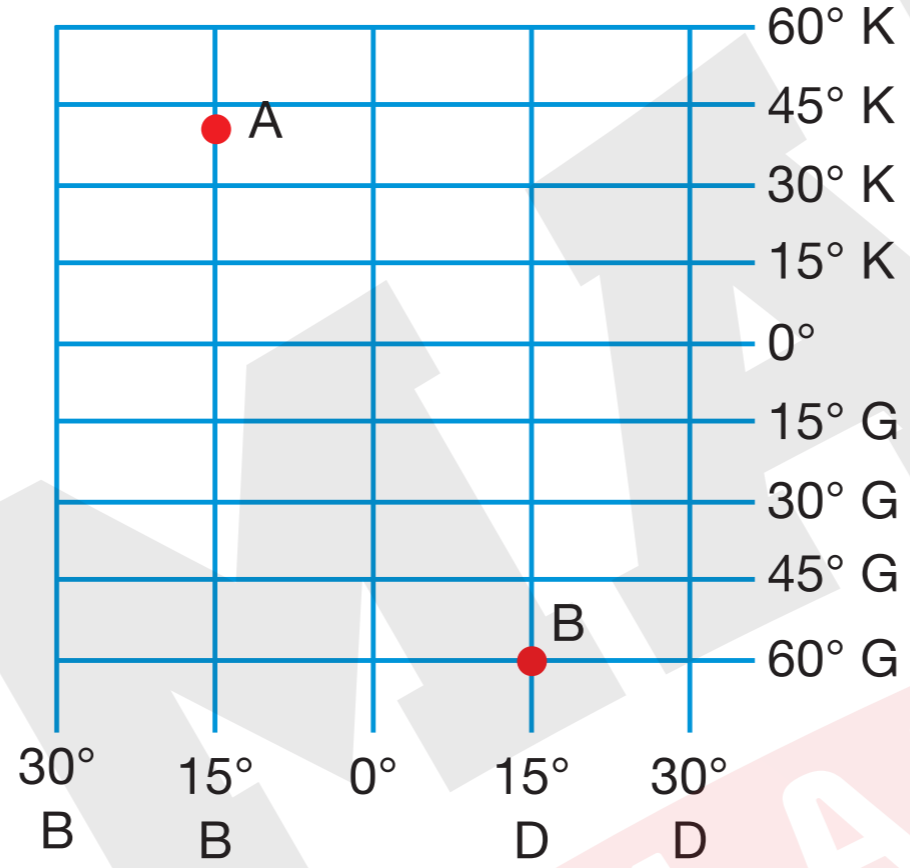
Doğu:	Iğdır
Batı:	Çanakkale
Kuzey:	Sinop
Güney:	Hatay

E)

Doğu:	Malatya
Batı:	Kütahya
Kuzey:	Zonguldak
Güney:	Adana

Örnek:

Aşağıda iki noktanın coğrafi koordinatları gösterilmiştir.



Bu koordinatlardan Türkiye'ye gelmek isteyen bir kişi hangi yönlere doğru hareket etmesi gerekir?

- | | A | B |
|----|-----------|-----------|
| A) | Kuzey | Güney |
| B) | Güney | Kuzey |
| C) | Doğu | Kuzeydoğu |
| D) | Kuzeybatı | Batı |
| E) | Güneydoğu | Güneybatı |